

الصف الاول
الاعدادى النصف
الثانى

المراجعة النهائية

في

مادة الدراسات الاجتماعية

للمرحلة الاعدادية

ا. مارينا

١- أتمل العبارات التالية بكلمات المناسبة :-

- ١ تهب الرياح بانتظام طوال العام من مناطق الضغط المرتفع إلى مناطق الضغط المنخفض
- ٢ عناصر المناخ هي الحرارة و و و
- ٣ من العوامل المؤثرة في درجة الحرارة موقع المكان بالنسبة ل.....
- ٤ ترتفع درجة الحرارة عند دائرة خط الاستواء لأن الأشعة الشمسية تكون
- ٥ تقل درجة الحرارة كلما ارتفعنا عن مستوى سطح البحر بمقدار لكل متر .
- ٦ يُغطي الثلج قمة جبل في قارة أفريقيا .
- ٧ يسود القاهرة اليوم شديد البرودة .
- ٨ تهب الرياح التجارية من دائرتي عرض ٣٠ شمالاً وجنوباً متجهة نحو
- ٩ من الرياح المحلية التي تهب على مصر رياح ، ورياح على السودان .
- ١٠ يسقط المطر التصاعدي على المنطقة
- ١١ تحدث الأمطار الإعصارية نتيجة تقابل كتل مع كتل
- ١٢ المناطق الاستوائية من المناطق المطر .
- ١٣ تتميز المناطق الواقعة على الساحل الشمالي للبحر المتوسط بأنها المطر .
- ١٤ تتميز الصحراء الكبرى بأنها المطر .
- ١٥ من العوامل المؤثرة في درجات الحرارة و و
- ١٦ تسقط أشعة الشمس علي دائرة خط الاستواء فترتفع
- ١٧ تقع المنطقة بين مدار السرطان شمالاً ومدار الجدي جنوباً .
- ١٨ تميز المنطقة المعتدلة الباردة بصيف وشتاء
- ١٩ الرياح هواء متحرك من منطقة الضغط إلى منطقة الضغط
- ٢٠ اتجاه الرياح التجارية في نصف الكرة الشمالي و في نصف الكرة الجنوبي .
- ٢١ اتجاه الرياح العكسية الغربية في نصف الكرة الشمالي في نصف الكرة الجنوبي .
- ٢٢ تجلب الرياح العكسية علي الجهات التي تهب عليها ، وهي من نوع الرياح
- ٢٣ تهب الرياح القطبية من إلي
- ٢٤ تعتبر الرياح التجارية من الرياح أما رياح الخماسين من الرياح
- ٢٥ من أنواع الأمطار و
- ٢٦ الأمطار التصاعدية تسقط بشكل واضح في المنطقة
- ٢٧ من المناطق غزيرة الأمطار في العالم
- ٢٨ الإقليم الاستوائي يقع بين دائرتي عرض ، ،
- ٢٩ يقع الإقليم البارد بين دائرتي عرض ، ، بينما يقع الإقليم المداري في
- ٣٠ يتميز إقليم البحر المتوسط بأنه

- ٢١ الأسس التي تصنف عليها الأقاليم المناخية هي و
- ٢٢ الأقاليم المناخية الحارة تتمثل في الإقليم الاستوائي و و و
- ٢٣ تتمثل الأقاليم المناخية الباردة في و
- ٢٤ يمتد الإقليم الاستوائي بين دائرتي عرض
- ٢٥ تسقط الأمطار على الإقليم المدارى في فصل بينما يتميز الإقليم بأن أمطاره نادرة .
- ٢٦ يمتد إقليم البحر المتوسط بين دائرتي عرض بينما يمتد الإقليم البارد بين دائرتي عرض
- ٢٧ يتميز مناخ الإقليم الصيني بـ صيفاً شتاءً .
- ٢٨ يتميز مناخ إقليم غرب أوروبا بأنه بـ صيفاً شتاءً .
- ٢٩ يتميز مناخ إقليم غرب أوروبا بأنه بارد ومعتدل ومعتدل ومعتدل تقطعي
- ٣٠ قمم الجبال ومنحدراتها .
- ٣١ يتوقف نوع النبات الطبيعي على و
- ٣٢ النبات الطبيعي ينمو نتيجة لتفاعل و
- ٣٣ تنمو الغابات الاستوائية في المناطق الواقعة على
- ٣٤ من أشجار الغابات الاستوائية و ومن الحيوانات التي تعيش فيها و
- ٣٥ تنمو الغابات النفضية في ، بينما تنمو الغابات الصنوبرية في
- ٣٦ من أشجار الغابات النفضية و ومن الحيوانات التي تعيش فيها و
- ٣٧ من أشجار غابات البحر المتوسط و ومن الحيوانات التي تعيش فيها و
- ٣٨ من أشجار الغابات الصنوبرية و ومن الحيوانات التي تعيش فيها و
- ٣٩ تعيش الفيلة في بينما تعيش الثعالب القطبية في الغابات
- ٤٠ أزال الإنسان مساحات كبيرة من الغابات وأحل مكانها الزراعة .
- ٤١ تنمو الحشائش الحارة في بينما تنمو الحشائش المعتدلة في
- ٤٢ يعيش حيوان الرنة في الحشائش
- ٤٣ قام الإنسان بإزالة مساحات كبيرة من الغابات وأحل محلها الزراعة .
- ٤٤ يتمثل النبات الطبيعي في و و
- ٤٥ من أشجار الغابات الاستوائية ، بينما من أشجار غابات البحر المتوسط
- ٤٦ يُعد الكاكو من أشجار الغابات ، بينما الزان من أشجار الغابات
- ٤٧ تنمو الغابات النفضية في ، بينما تنمو الغابات الصنوبرية في
- ٤٨ الثعلب القطبي من حيوانات الغابات ، بينما يعيش في الحشائش الحارة
- ٤٩ تصلح الحشائش كمراع طبيعية .
- ٥٠ من النباتات الصحراوية التي لها القدرة علي تخزين المياه و
- ٥١ من أخطار المياه و و
- ٥٢ للفيضانات فوائد عديدة منها و
- ٥٣ يمكن التخفيف من آثار السيول عن طريق و و
- ٥٤ تؤدي الانهيارات الجليدية إلى و
- ٥٥ تنشأ الأعاصير فوق وتعرف باسم الأعاصير
- ٥٦ من أمثلة الأعاصير إعصار الذي حدث في الولايات المتحدة الأمريكية عام ٢٠١٢ م .

- ٦٧ من أساليب التحكم في مخاطر السيول و
 ٦٨ تصل سرع الكتل الجليدية أثناء الانهيارات الجليدية إلى
 ٦٩ إزالة الغابات من أسباب حدوث

٧٠ إعصار من أمثلة الأعاصير المدمرة .

٧١ تدهور القدرة الإنتاجية للأراضي الزراعية تعرف بـ

٧٢ من الأسباب الطبيعية للتصحّر و بينما من الأسباب البشرية للتصحّر

٧٣ توجد في قارة إفريقيا نحو % من أراضي العالم الجافة .

٧٤ تعتبر الغابات جزءاً لا يتجزأ من وتساهم في استقراره .

٧٥ يؤدي حريق الغابات إلى انبعاث غازات التي تلوث البيئة .

٧٦ الاحتباس الحراري يؤدي إلى زحزة مما يؤدي إلى سقوط الأمطار على مناطق كانت صحراوية

٧٧ يؤدي الاحتباس الحراري إلى تغير في باقي عناصر المناخ من

٧٩ يوجد في قارة ٢٣ % من أراضي العالم الجافة .

٨٠ تعد نوعاً من أنواع التصحّر .

٨١ تساهم في استقرار النظام البيئي .

٨٢ حريق الغابات يؤدي إلى انبعاث غازات بالبيئة .

٨٣ لتقليل الاحتباس الحراري لابد من

٨٤ الأخذود هو

٨٥ الاحتباس الحراري هو

أعد كتابك العبارات الآتية بعد تهويب الخط فيما يلي-

١ تنمو الغابات النفضية في المناطق الواقعة على جانبي دائرة خط الاستواء .

٢ تتميز غابات البحر المتوسط، بأنها تنفض أوراقها في فصل الشتاء والخريف .

٣ الغابات النفضية غطاؤها الورقي مخروطي الشكل .

٤ تعتبر الحشائش المعتدلة (الإستبس) أكبر حديقة حيوان طبيعية في العالم .

٥ السافانا عبارة عن طحالب وحشائش سريعة النمو تظهر خلال فصل الصيف انقصر .

٦ تصلح الغابات الصنوبرية كمراع طبيعية .

٧ بعض النباتات الصحراوية تتحمل ظروف المناخ من خلال طول الجذور مثل التين الشوكي .

وضع علامة (✓) أو (x) أمام ما يناسب من العبارات التالية:

- ١ الطقس هو متوسط حالة الجو في فترة زمنية طويلة ، من حيث الحرارة ، الضغط الجوي ، الرياح ، المطر .
- ٢ تختلف درجات الحرارة من مكان إلى آخر على سطح الأرض حسب موقعه بالنسبة لخطوط الطول .
- ٣ رياح الخماسين من الرياح الموسمية .
- ٤ تاطف المسطحات المائية من درجة حرارة الأماكن القريبة منها في فصل الصيف .
- ٥ كلما طال النهار تتلقى الأرض كمية صغيرة من الإشعاع الشمسي .
- ٦ تنتقل الرياح من مناطق الضغط المرتفع إلى مناطق الضغط المنخفض .
- ٧ المناخ هو متوسط حالة الجو خلال فترة زمنية طويلة .
- ٨ تعد الحرارة أهم عناصر المناخ .
- ٩ يغطي الثلج القمم الجبلية في المناطق الاستوائية .
- ١٠ الرياح التجارية تلتف من درجة الحرارة ، والرياح الغربية العكسية تجلب الدفء .
- ١١ تجلب الرياح القطبية معها الدفء على الجهات التي تهب عليها .
- ١٢ الرياح الموسمية تهب بانتظام طوال العام .
- ١٣ تهب الرياح المحلية على مناطق محدودة من سطح الكرة الأرضية ولها تأثير محلي .
- ١٤ الرياح الموسمية الصيفية جافة بينما الرياح الموسمية الشتوية ممطرة .
- ١٥ يحدث نسيم البحر نهاراً ونسيم البر ليلاً .
- ١٦ الأمطار التضاريسية تحدث نتيجة لتقابل كتل هوائية باردة مع كتل هوائية ساخنة .
- (١٧) ترتفع درجة الحرارة عند دائرة الاستواء لأن الأشعة الشمسية تكون مائلة . ()
- (١٨) الحرارة أهم عناصر المناخ . ()
- (١٩) يسقط المطر التصاعدي على المنطقة القطبية . ()
- ٢٠ تتميز الصحراء الكبرى بأنها غزيرة المطر . ()
- (٢١) تعد الرياح القطبية من أنواع الرياح الموسمية . ()
- (٢٢) تتميز المناطق القريبة من المسطحات المائية بالبرودة شتاءً . ()
- ٢٣ تنوع الأقاليم المناخية يؤدي لتنوع صور الحياة على سطح الأرض .
- ٢٤ تصنف الأقاليم المناخية طبقاً لتشابه درجات الحرارة والأمطار والرياح .
- ٢٥ يُعد كل من الإقليم الاستوائي والإقليم الصحراوي من الأقاليم المناخية الدفيئة .
- ٢٦ أمطار الإقليم الاستوائي من النوع التصاعدي .
- ٢٧ يتميز الإقليم الموسمي بصيف حار ممطر ورطب وشتاء بارد .
- ٢٨ يمتد الإقليم الصحراوي الحار بين دائرتي عرض ١٨ : ٣٠ شمالاً وجنوباً دائرة الاستواء .
- ٢٩ المدى الحراري السنوي هو الفرق بين متوسط الحرارة ليلاً ونهاراً .
- ٣٠ يقع الإقليم المعتدل الدافئ (الإقليم الصيني) شرق القارات .
- ٣١ يمتد الإقليم البارد (التندرا) بين دائرتي عرض ٦٠ : ٩٠ شمالاً وجنوباً دائرة الاستواء .
- (٣٢) أمطار الإقليم الاستوائي من النوع التصاعدي . ()
- (٣٣) تسقط الأمطار طوال العام في الإقليم الموسمي . ()
- (٣٤) تعد سواحل مصر الشمالية و الشرقية جزءاً من إقليم البحر المتوسط . ()
- (٣٥) تمتد الأقاليم المناخية المعتدلة الدفيئة بين دائرتي عرض ٤٥° - ٦٠° شمالاً وجنوباً . ()

- ١٠ أهم عناصر المناخ هي
- ١١ ترتفع درجة الحرارة في الأماكن القريبة من
- ١٢ لطول المسطحات المائية من درجة الحرارة في الجهات القريبة منها
- ١٣ وترتفع الثلوج فوق قمم الجبال المرتفعة بسبب
- ١٤ الرياح
- ١٥ الرياح ذات تأثير محلي وتهب فوق مناطق محدودة .
- ١٦ الأمطار التي تسقط على المنطقة الاستوائية هي أمطار
- ١٧ من المناطق متوسطة المطر

- ١٨ تهب الرياح القطبية من منطقتي الضغط المرتفع عند متجهة إلى منطقة الضغط المنخفض عند الدائرتين القطبيتين الشمالية و الجنوبية .
- (الدائرتين القطبيتين - القطبين - مدار السرطان - مدار الجدي)
- ١٩ تُعد رياح الخماسين من الرياح التي تهب على مصر
- (التجارية - الموسمية - المحلية - العكسية)
- ٢٠ تحدث الأمطار عند اصطدام رياح محملة ببخار الماء بالمرتفعات.
- (التصاعدي - الإعصاري - التضاريسية - الاستوائية)
- ٢١ تنمو حشائش في المنطقة القطبية. (المطاط - التندرا - السافانا - الاستبس)
- ٢٢ الحشائش تنمو شمال وجنوب الغابات الاستوائية .
- ٢٣ تعيش النمرور والضباع في إقليم
- (الحشائش - المعتدلة) (الإستبس) في القارات .
- ٢٤ تنمو الحشائش في فصل الصيف وتعتوت في فصل الشتاء .

- ٢٥ من النباتات الصحراوية التي لها القدرة على تخزين المياه
- ٢٦ يعيش حيوان الرنة في الحشائش
- ٢٧ الحشائش قصيرة لينية .
- ٢٨ يُعد من أخطار المياه .
- ٢٩ انصهار الجليد من الأسباب التي تؤدي إلى حدوث
- (انصهار الجليد - التسونامي - الفيضانات)
- ٣٠ تغذية خزانات المياه الجوفية من الآثار الإيجابية الناتجة عن حدوث
- (التسونامي - الفيضانات - الزلازل)
- ٣١ عبارة عن عواصف هوائية دوارة حلزونية عنيفة . (الزلازل - الأعاصير - التسونامي)
- ٣٢ ارتفاع أمواج البحر ونحر السواحل من الآثار الناتجة عن حدوث
- (التسونامي - الأعاصير - الزلازل)
- ٣٣ حدث إعصار ساندي المدمر في
- (الولايات المتحدة الأمريكية - إنجلترا)

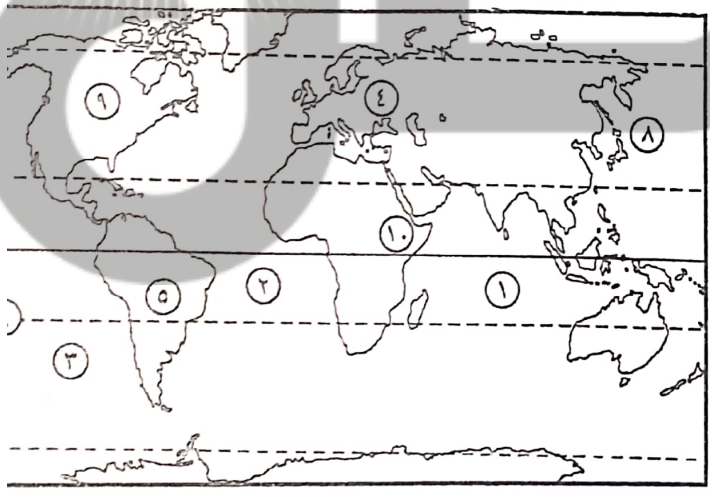
١٠
١١
١٢
١٣
١٤
١٥
١٦
١٧
١٨
١٩
٢٠
٢١
٢٢
٢٣
٢٤
٢٥

كتب المعلوم الجغرافيا الدالة على كل عبارة من العبارات الدتية:

- ١ متوسط حالة الجو في فترة زمنية طويلة ، من حيث الحرارة ، والضغط الجوي ، والرياح ، والأمطار .
- ٢ وصف حالة الجو في فترة زمنية قصيرة قد تكون يوماً أو يومين أو أسبوعاً من حيث الحرارة ، الضغط ، الرياح ، الأمطار .
- ٣ رياح تهب بانتظام طوال العام من مناطق الضغط المرتفع إلى مناطق الضغط المنخفض .
- ٤ الرياح التي تغير اتجاهها موسمياً بين الصيف والشتاء .
- ٥ رياح ذات تأثير محلي تهب فوق مناطق محدودة من سطح الأرض .
- ٦ يحدث نتيجة لاختلاف درجات الحرارة على اليابس والماء المتجاورين أثناء الليل والنهار .
- ٧ رياح محلية تهب على مصر وتكون محملة بالرمال والأترية .
- ٨ الأمطار التي تسقط نتيجة اصطدام الهواء المحمل ببخار الماء بسفوح الجبال .
- ٩ الأمطار التي تسقط نتيجة تقابل كتل من الهواء البارد مع كتل أخرى من الهواء الساخن .
- ١٠ مناطق متصلة أو منفصلة من سطح الأرض ولكنها متشابهة في خصائصها المناخية العامة من حيث الحرارة والرياح والأمطار .
- ١١ مناطق متصلة أو منفصلة من سطح الأرض ولكنها متشابهة في خصائصها المناخية .
- ١٢ أحد الأقاليم المناخية الدفينة ويمتد بين دائرتي عرض ٣٠° ، ٤٥° شمالاً وجنوباً غرب القارات .
- ١٣ الفرق بين متوسط درجات حرارة الليل ومتوسط درجات حرارة النهار .
- ١٤ الفرق بين متوسط درجة حرارة الصيف والشتاء .
- ١٥ إقليم مناخي حار يمتد بين دائرتي عرض ١٠ شمالاً : ١٠ جنوباً دائرة الاستواء .
- ١٦ الفرق بين متوسط درجات حرارة النهار والليل .
- ١٧ الفرق بين متوسط درجات حرارة الصيف والشتاء .
- ١٨ إقليم مناخي بارد يمتد بين دائرتي عرض ٦٠ ، ٩٠ شمالاً دائرة الاستواء .
- ١٩ نبات ينمو نتيجة لتفاعل عناصر المناخ مع التربة ودون تدخل الإنسان .
- ٢٠ أراض بها تجمعات شجرية ضخمة وكثيفة ومتشابكة .
- ٢١ نباتات طبيعية أقل حجماً وكثافة وطولاً من الأشجار التي تنمو في الغابات .
- ٢٢ أرض جافة شبه خالية من النبات الطبيعي .
- ٢٣ غابات غطاؤها ورقي ومخروطي الشكل حتى لا تتراكم فوقه الثلوج .
- ٢٤ غابات أشجارها تنقض أوراقها في فصلي الشتاء والخريف .
- ٢٥ تعتبر أكبر حديقة حيوان طبيعية في العالم .
- ٢٦ طحالب وحشائش سريعة النمو تظهر خلال فصل الصيف القصير وسرعان ما تموت بقدم فصل الشتاء .
- ٢٧ يقع غرب القارات أمطاره طوال العام دافئ صيفاً ومعتدل بارد شتاءً . (.....)
- ٢٨ يقع شرق القارات أمطاره طوال العام حار صيفاً ودافئ شتاءً . (.....)
- ٢٩ يقع جنوب شرق آسيا تهب عليه الرياح الموسمية الصيفية والشتوية . (.....)
- ٣٠ يقع حول دائرة الاستواء مرتفع الحرارة و ممطر طول العام . (.....)
- ٣١ نبات ينمو دون تدخل من الإنسان نتيجة لتفاعل عناصر المناخ مع التربة .
- ٣٢ أراض بها تجمعات شجرية ضخمة وكثيفة ومتشابكة .
- ٣٣ نباتات طبيعية أقل حجماً وكثافة وطولاً من أشجار الغابات وتظهر مع تناقص العمر .
- ٣٤ غابات تعيش بها الطيور والقحط والسناجب .
- ٣٥ غابات أشجارها تنقض أوراقها في الشتاء والخريف .
- ٣٦ أكبر حديقة حيوان طبيعية في العالم .



.....	إقليم مناخي ١	إقليم مناخي ١٢	إقليم مناخي ٧
.....	إقليم مناخي ٢	إقليم مناخي ١١	إقليم مناخي ٨
.....	إقليم مناخي ٣	إقليم مناخي ١٠	إقليم مناخي ٩
.....	إقليم مناخي ٤	إقليم مناخي ٩	إقليم مناخي ١٠
.....	إقليم مناخي ٥	إقليم مناخي ٨	إقليم مناخي ١١
.....	إقليم مناخي ٦	إقليم مناخي ٧	إقليم مناخي ١٢



.....	المحيط الهندي
.....	المحيط الهادئ
.....	المحيط الأطلسي
.....	قارة آسيا
.....	قارة أفريقيا
.....	دائرة عرض
.....	جزر بيركالية
.....	دولة تعرضت لتسونامي
.....	دولة تعرضت لإعصار ساندي
.....	منطقة حدوث براكين و زلازل

أطلق المصريون القدماء على آخر خمسة أيام من كل عام أيام
 كان و وحدات قياس مساحة الأراضي الزراعية عند المصريين القدماء .
 اهتم المصريون القدماء بعملية لاعتمادهم في البعث والخلود .
 نبغ المصريون القدماء في صناعة الدواء من
 عدد أيام السنة عند قدماء المصريين يوماً بما فيها أيام النسيء .
 استخدم المصريون القدماء الحساب في معرفة مساحة وتسجيل
 نبغ المصريون القدماء في صناعة من الأعشاب .
 كانت مساكن المصريين القدماء تبنى من بينما كانت مقابرهم تبنى من
 معبد الرمسيوم من المعابد بينما معبد الأقصر من معابد
 أنشأت الملكة معبداً بالدير البحري وهو من المعابد
 من أشهر معابد الآلهة معبد
 من التماثيل التي تدل على براعة المصريين القدماء في فن النحت تماثيل

٥٧- نبغ المصريون في علم الكيمياء فصنعوا
 ٥٨- من العلوم التي برع فيها الفراعنة
 ٥٩- بنى المصري القديم مسكنه من ومقبرته من
 ٦٠- يُعد المصري القديم أول من استخدم التقويم
 ٦١- من حقوق الآباء على الأبناء
 ٦٢- من وسائل التسلية عند المصري القديم
 ٦٣- تقوم الكتابة على استخدام الرموز .
 ٦٤- نصوص الأهرام من الأدب

٦٥- وقعت مصر تحت سيطرة و قبل مجئ الإسكندر الأكبر .
 ٦٦- ولد الإسكندر الأكبر عام
 ٦٧- نشأ الإسكندر الأكبر في إقليم بشمال بلاد اليونان .
 ٦٨- نجح الملك في توحيد بلاد الإغريق في إقليم مقدونيا .
 ٦٩- هزم الإسكندر الأكبر الفرس في مدن ، ،
 ٧٠- تولى الإسكندر الأكبر الحكم وهو في سن من عمره .
 ٧١- دخل الإسكندر الأكبر مصر عام
 ٧٢- زار الإسكندر الأكبر معبد الإله في منف ، ومعبد الإله في واحة سيوة .
 ٧٣- وقع اختيار الإسكندر الأكبر على قرية وجزيرة لتأسيس مدينته الإسكندرية .
 ٧٤- توفي الإسكندر الأكبر في عام ودفن في مدينته

٧٥- دخلت المسيحية إلى مصر في منتصف القرن الميلادي .
 ٧٦- وجد المصريون في اعتناق الدين المسيحي خلاصاً لهم من القهر و الإذلال الذي كانوا يعانونه تحت الحكم

٧٧- أطلق على عصر دقلديانوس عصر

٨- لأدت مدينة دوراً بارزاً في إنتشار المسيحية .

٨٠- يرجع أصل الإسكندر الأكبر إلى إقليم شمال بلاد اليونان .
 ٨١- ظلت مصر تحت حكم حتى دخلها الإسكندر الأكبر عام
 ٨٢- رحب المصريون بالإسكندر الأكبر لاعتمادهم بأنه جاء ليحررهم من الاحتلال
 ٨٣- عمل كجنود مرتزقة في مصر قبل فتح الإسكندر لمصر .
 ٨٤- قام الإسكندر الأكبر بزيارة معبد الإله بواحة سيوه وأطلق عليه لقب ابن
 ٨٥- زار الإسكندر الأكبر معبد الإله في مدينته وأقام مهرجاناً رياضياً بها .
 ٨٦- أسس مدينته الإسكندرية عن طريق توصيل جزيرة بقرية بمرور المياه بينهما
 ٨٧- كانت مدينته الإسكندرية مركزاً لنشر الحضارة في العالم .
 ٨٨- توفي الإسكندر الأكبر عام ودفن في مدينته

- ١٣٨ تبذل الدولة جهوداً كبيرة من أجل بناء
- ١٣٩ تدرب الدولة النشء على
- ١٤٠ المواطن الصالح هو
- ١٤١ من الصفات الحميدة التي يجب أن يتحلى بها الفرد
- ١٤٢ من أهم الصفات الأساسية للمواطن الصالح
- ١٤٣ تبذل .. جهوداً كبيرة من أجل بناء الإنسان المصري .
- ١٤٤ الشخص الذي لديه من القيم والمهارات والمعارف ما يساعده في المشاركة بفاعلية في حل قضايا المجتمع هو
- ١٤٥ من الدعايم الأربع للمواطن الصالح
- ١٤٦ المواطن الصالح له
- ١٤٧ من الصفات الأساسية التي يجب أن يتمتع بها المواطن الصالح

٥- إلى من تنسب الأعمال الآتية :

- ١ فتح مصر عام ٦٤١ م .
- ٢ زار معبد بتاح في منف ومعبد آمون في واحته سيوه .
- ٣ انتصر في معركة أكتيوس البحرية .
- ٤ ساهمت في إعادة بناء مكتبة الإسكندرية .
- ٥ أقام أول مكتبة حكومية عامت عرقها العالم القديم .
- ٦ حكم الأجزاء الشرقية للإمبراطورية الرومانية بعد مقتل يوليوس قيصر .
- ٧ حكم الأجزاء الغربية للإمبراطورية الرومانية بعد مقتل يوليوس قيصر .
- ٨ أسس مدينة الإسكندرية .
- ٩ أسس دولة البطالمة في مصر .
- ١٠ نشر المسيحية في مصر .
- ١١ أسس نظام الرهبانية الجماعية .

هـ- أكوّن :

- ١ استخدمني المصري القديم في صناعة الورق .
- ٢ تم نقشي على جدران المعابد والمقابر وعرفت بالخط المقدس .

- ٣ تناوت الحياة بعد الموت وعقيدة البعث والخلود .
- ٤ قمت بتمجيد أعمال فرعون وتشيد فضائله .

٥- قارن بين كل من :

- ١ وسائل الترفيه في مصر الفرعونية ، ووسائل الترفيه في مصر في الوقت الحاضر .
- ٢ مساكن عامة الشعب ومساكن الأغنياء من حيث : الخصائص لكل منهما .
- ٣ أسس الدولة الفرعونية بأكملها .
- ٤ أسس الدولة الفرعونية بأكملها .
- ٥ أسس الدولة الفرعونية بأكملها .
- ٦ مسكن المصري القديم والقصر الفرعوني .
- ٧ نصوص الأهرام وكتاب الموتى .
- ٨ المعابد الجنائزية ومعابد الآلهة .

٦- إلى أي الفنون تنسب الأعمال الآتية :

- ١ معرفة مواقع النجوم .
- ٢ معرفة مواسم الزراعة .
- ٣ صناعة الألوان والأصباغ .
- ٤ معرفة التقويم الشمسي .
- ٥ تشخيص الأمراض وعلاجها .
- ٦ معرفة مساحة المربع والمستطيل .

للدولة جهود كبيرة من أجل بناء
 الشخص الذي لديه من القيم والمهارات والمعارف ما يساعده في المشاركة بفاعلية في حل قضايا المجتمع هو
 يجب أن يتحلى الفرد بصفات حميدة منها و و
 من صفات المواطن الصالح و و
 للمواطن الصالح يجب أن يتمتع بها وعليه يجب أن يلتزم بها .
 تتسم عضوية المواطن داخل الجماعة ب و و
 من الحقوق السياسية التي يجب أن يتمتع بها الإنسان و
 توافر المسكن اللائق للفرد حق من الحقوق
 الحق في الكسب المشروع من الحقوق التي يجب أن يتمتع بها الإنسان .
 من الحقوق الثقافية التي يتمتع بها الفرد
 مجموعة المسؤوليات التي يجب على المواطن الالتزام بها تجاه مجتمعه ووطنه هي
 القانون هو

للقواعد القانونية عدة خصائص منها و
 عرفت المرحلة من مراحل تطور القانون بمرحلة
 من المصادر المختلفة التي يستمد منها القانون أحكامه و
 عضوية المواطن داخل الجماعة تتسم ب و
 تعرف المواطنة بأنها
 تنقسم حقوق المواطن إلى و و
 المساواة وعدم التمييز من الحقوق التي يتمتع بها المواطن .
 من الحقوق الاقتصادية و
 من الحقوق الدينية التي يتمتع بها المواطن
 الاعتزاز بالانتماء للوطن من التي يجب أن يلتزم بها المواطن .

١- اكتب ما تعرفه عن ...


١- عوامل انتشار المسيحية في مصر

٢- اختر من العمود (ب) ما يناسب العمود (أ) :

(أ)

- ١- قائد عربي فتح مصر وخلصها من الرومان
- ٢- اعترف بالمسيحية ديانة رسمية للدولة
- ٣- بدأ في حكمة الأطباء المسيحيين
- ٤- تعرف المسيحيون في حكمة لاكتفاء الأطباء
- ٥- اسس نظام الرعاية الصحية
- ٦- مؤسس الكنيسة الفرديّة

- قسطنطين .
- دقلديانوس .
- باخوم .
- ثيرون .
- عمرو بن العاص .
- أنطون .



- (الطوب اللبن - الحجر - الخشب - الرخام)
- (الفخامة - الاتساع - البساطة - كبر الحجم)
- (القطن - الصوف - الحرير المستورد - الجلد)
- (بلاد بونت - بلاد الرافدين - فينيقيا - النوبة)

- ١- بنى المصري القديم مسكنه من
- ٢- اتسم مسكن المصري القديم بـ
- ٣- صنعت ملابس الأغنياء في مصر الفرعونية من
- ٤- استورد المصريون القداماء الحرير من

- ٥- من أدوات الزينة عند المصريين القدماء
- ٦- من الأعياد الدينية عند المصريين القدماء
- ٧- انقسم المجتمع المصري إلى طبقات

- الوزير - الكاهن - الكاتب - فرس
- أقلامياً - طبياً - شرمياً - راسالياً - ديمقراطياً
- (صغار الحوطين والتجار - كهنوت والوزير - الحرفيون والرعاة - كبار الكهنة)
- الحجر - الذهب - الفؤب اللبن - الر
- البساطة - الفخامة - الاتساع - كبر

- ٨- كان على رأس الهرم الطبقي في مصر القديمة .
- ٩- كان المجتمع المصري القديم مجتمعاً
- ١٠- يمثل الطبقة الوسطى في المجتمع المصري القديم
- ١١- كان المصري القديم يبني مسكنه من
- ١٢- اتسم مسكن المصري القديم بـ

البلد - الدير المستورد - القطن - الموقف
رأس السنة - الربيع - الصيف - اللاصقون

الهيروغليفية - الميراطيقية - الديموطيقية - القبطية
(الهيروغليفية - الميراطيقية - الديموطيقية - القبطية)
(الهيروغليفية - الميراطيقية - الديموطيقية - القبطية)
(التهدبي - الديني - القصص - الحديث)
(التهدبي - الديني - القصص - الحديث)
(التهدبي - الديني - القصص - الحديث)

الهيروغليفية - الديموطيقية - القبطية - الهيروغليفية
الهيروغليفية - الديموطيقية - القبطية - الهيروغليفية
الادب التهدبي - القصص - الديني - التهدبي
والادب التهدبي - القصص - الديني - الحديث

يهدف إلى تمجيد أعمال فرعون .
كتاب الموتى - نصوص الأهرام - أسطورة إيزيس وأوزيريس - قصة سنوحي
بنس المصريون القدماء مقاديرهم عن

من أشهر المعابد الجنائزية في مصر معبد حتشبسوت وهو يقع في منطقة
مقبرة الملكة من أجمل المقابر التي توضح التصوير على الجدران .
(الطوب - الحجر - الخشب - الطين)
(الدير البحري - منف - تل العمارنة - اللشت)
(معبد الأقصر - معبد الكرنك - معبد الرمس - معبد أبو سمبل)

من أشهر المعابد الجنائزية في مصر معبد حتشبسوت في
تمثل الكتابة المرحلة الأخيرة من مراحل الكتابة في اللغة المصرية القديمة .
" وادي الملوك - الدير البحري - منف - تل العمارنة "

من وحدات قياس مساحة الأراضي الزراعية في مصر القديمة
اهتم المصريون القدماء بحفظ جثث موتاهم عن طريق
تعد مقبرة الملكة من أجمل المقابر التي تمثل التصوير على الجدران .
" حتشبسوت - نفرتي - نفرقاري - أياح حتب "

ولد الإسكندر الأكبر عام ق . م .
استولى الإسكندر الأكبر على مصر عام

توفي الإسكندر الأكبر عام ق . م .
زار الإسكندر الأكبر الإله بتاح في

دفن الإسكندر الأكبر في مدينة
تولى الإسكندر الحكم بعد وفاة أبيه عام ق . م .
ظلت مصر تحت حكم الفرس حتى عام ق . م .

أطلق على الإسكندر لقب ابن
توفي الإسكندر عام ق . م .
دفن الإسكندر الأكبر في مدينة

بعد وفاة الإسكندر الأكبر كانت مصر من نصيب القائد
المدينة التي كانت مركزا للحضارة الهلينستية مدينة

اتخذ البطالمة اللغة لغة رسمية للبلاد .
من أشهر علماء جامعة الإسكندرية في التاريخ

قام البطالمة بتشييد معبد لعبادة حورس .
من أشهر المعابد التي شيدها البطالمة

انتشرت المسيحية في مصر على يد القديس
بدأ اضطهاد المسيحيين في عهد الإمبراطور

16
17
18
19
20
21
22
23
24
25
26
27
28
29
30
31
32
33
34
35
36
37
38
39
40
41
42
43
44
45
46
47
48
49
50
51
52
53
54

نشأ نظام الرهبانية في
رحب المصريون بالفتح الإسلامي ليخلصهم من ظلم

بعد وفاة الإسكندر الأكبر كانت مصر من نصيب

استمر حكم البطالمة لمصر حتى عام

مدينة كانت مركز إشعاع الحضارة الهلنستية.

استخدم البطالمة اللغة لفترة رسمية للبلاد . (الفارسية - الإغريقية - المصرية)

يعتبر مانيتون من أشهر علماء جامعة الإسكندرية في
من أشهر علماء جامعة الإسكندرية في الهندسة

قام البطالمة بتشييد معبد لعبادة الإله سراجيس . (الكرنك - الأقصر - أبو سمبل - الرابيوم)

من أشهر المعابد التي شيدها البطالمة (معبد الكرنك - معبد أبو سمبل - معبد دندرة - معبد اللاقصر)

ظهرت عبادة الإلهة وهي مزيج بين الديانة المصرية والديانة الإغريقية . (التوت - رع - سراجيس - أمون)

تتسم عضوية المواطن داخل الجماعة بـ
تشكل ركنا أساسيا في بناء شخصية الإنسان .

من الحقوق السياسية التي يجب أن يتمتع بها الفرد

العيش في سلام - حرية المعتقد - الحق في العمل - توافر الرعاية الصحية)

توافر الرعاية الصحية للفرد حق من الحقوق (السليمة - الاجتماعية - الاقتصادية - الثقافية)

الهدف العمل من الحقوق التي يجب ان يتمتع بها الفرد .

حرية التفكير من الحقوق
حرية المعتقد - السكن اللائق - التعليم - اختيار ما يحكمه)

(الدينية - الثقافية - السياسية - الاجتماعية)

من الحقوق الدينية التي يجب أن يتمتع بها الفرد

مجموعة المسئوليات التي يجب على المواطن الالتزام بها تجاه وطنه هي

(حرية المعتقد - السكن اللائق - التعليم - اختيار ما يحكمه)

(الحقوق - الواجبات - المواطنة - القانون)

٧٤- تتسم عضوية المواطن داخل المجتمع بـ

(الفعالية - النشاط - الإيجابية - كل ما سبق)

٧٥- من الحقوق السياسية التي يجب أن يتمتع بها الفرد

(العيش في سلام - حرية المعتقد - الحق في العمل - توفر الرعاية الصحية)

٧٦- من الحقوق الدينية التي يجب أن يتمتع بها الفرد

(حرية المعتقد - السكن اللائق - التعليم - اختيار ما يحكمه)

٧٧- عضوية المواطن داخل الجماعة تتسم بـ

صفة المواطن الذي يتمتع بالحقوق ويلتزم بالواجبات التي يفرضها عليه انتمائه لوطنه إنها
المسؤوليات - الحقوق الاقتصادية - المواطنة - الحقوق الاجتماعية

٧٨- حرية الترشيح للمجالس النيابية من الحقوق التي يتمتع بها المواطن .

(السياسية - الاجتماعية - الاقتصادية - الثقافية)

٧٩- من الحقوق الاجتماعية التي يتمتع بها المواطن

(حق العيش في سلام - حق الرعاية الصحية - حرية التفكير - حق العمل)

٨٠- الحق في المساواة وعدم التمييز من الحقوق التي يتمتع بها المواطن .

(السياسية - الاقتصادية - الثقافية - الاجتماعية)

٨١- من الحقوق الاقتصادية التي يتمتع بها المواطن الحق في

(حرية التفكير والحصول على المعلومات من الحقوق التي يتمتع بها المواطن .

(حرية التفكير والحصول على المعلومات من الحقوق التي يتمتع بها المواطن .

٨٢- من الحقوق الدينية التي يتمتع بها المواطن حرية
من خصائص القواعد القانونية
من المصادر التي يستمد منها القانون أحكامه

٤. ضع علامة (√) أو (×) أمام ما يناسبها من العبارات التالية:

- ()
- ()
- ()
- ()
- ()
- ()
- ()

- ١ - اقتصفت المجتمع المصري القديم بنظام الطبقة الواحدة .
- ٢ - حصلت المرأة في مصر القديمة على حقوقها السياسية فقط .
- ٣ - تشابه مساكن المصريين القدماء من حيث البناء والأثاث .
- ٤ - تشابهت الملابس في مصر القديمة بين طبقات المجتمع .
- ٥ - اهتم المصري القديم بحسن المظهر والزينة .
- ٦ - الحلبي من أدوات الزينة عند المصريين القدماء .
- ٧ - كانت حياة المصري القديم كلها عملاً يئاماً .
- ٨ - اقتصرت الرياضة على الرجال فقط في مصر القديمة .

- ()
- ()
- ()

- ٩ - حصلت المرأة في مصر القديمة على حقوقها السياسية فقط .
- ١٠ - الحلبي من أدوات الزينة عند المصريين القدماء .
- ١١ - مارس الأطفال في مصر الفرعونية كثير من الألعاب مثل تقاذف الكرات .

- ()
- ()
- ()
- ()
- ()
- ()

- ١٢ - استخدمت المكتبات الهيروغليفية في كتابات الحضارة الدينية .
- ١٣ - تعرفت الكتابة الديموطيقية بخط رجال الدين .
- ١٤ - نصوص الأهرام وكتاب الموتى إحدى صور أدب المديح في مصر النسخونية .
- ١٥ - من أنواع الأدب القصصي قصة الملاح الفريق .
- ١٦ - كان سنوحى قائداً لجيش الملكة أمنمحات الأولى .
- ١٧ - من أنواع الأدب التهذيبي نصوص نصاب حنب .
- ١٨ - يمجّد الأدب الديني أعمال الفرعون .

- ()
- ()
- ()
- ()
- ()

- ١٩ - تعرف الكتابة الديموطيقية بخط رجال الدين .
- ٢٠ - من أنواع الأدب القصصي قصة الملاح الفريق .
- ٢١ - من أنواع الأدب التهذيبي نصوص بتاح حنب .
- ٢٢ - يمجّد الأدب الديني أعمال الفرعون .

- ()
- ()
- ()
- ()
- ()
- ()
- ()
- ()
- ()
- ()
- ()
- ()
- ()
- ()
- ()
- ()
- ()
- ()

- ٢٣ - قسم المصريون القدماء السنن إلى ثلاث فصول وأشنا عشر شهراً .
- ٢٤ - استخدم المصري القديم المتري كمواد قياسية .
- ٢٥ - استخدم المصري القديم علم الحساب في معرفة كمية المحاصيل .
- ٢٦ - تعلم المصري القديم في علم الهندسة .
- ٢٧ - برع المصريون القدماء في الطب وتوصلوا إلى تشخيص الأمراض وطرق علاجها .
- ٢٨ - توصل العلم الحديث إلى معرفة سر التحنيط عند المصريين القدماء .
- ٢٩ - برع المصريون القدماء في العمارة .
- ٣٠ - كانت المساكين في مصر القديمة تبني من الطوب اللبن .
- ٣١ - يمثل الهرم المهدج الصورة الأخيرة لتطور بناء المقابر بمصر القديمة .
- ٣٢ - من معابد الآلهة معبد الملكة حتشبسوت .
- ٣٣ - كانت المعابد الجنائزية مكاناً تقدر فيه القرابين والشعائر للآلهة .
- ٣٤ - استخدم المصري القديم النقش على الحجر في المعابد .

- ()
- ()
- ()
- ()
- ()

- ٣٥ - استخدم المصري القديم علم الحساب في معرفة كمية المحاصيل .
- ٣٦ - توصل العلم الحديث إلى معرفة سر التحنيط عند المصريين القدماء .
- ٣٧ - كانت المعابد الجنائزية مكاناً تقدم فيه القرابين والشعائر للآلهة .
- ٣٨ - كانت المساكين في مصر القديمة تبني بالطوب اللبن .

٤٩- تتشابه مساكن المصريين القدماء من حيث البناء و الأثاث .

٥٠- حصلت المرأة في مصر القديمة على جميع حقوقها .

٥١- تعد نصائح الحكيم بتاح حنن من الأدب الديني .

٥٢- يمجّد أدب المديح أعمال الفرعون .

٥٣- عرفت الكتابة الهيروغليفية بالخط المقدس .

٥٤- خصائص السرات في مصر القديمة على جميع حقوقها .

٥٥- تشابهت مساكن المصريين القدماء في البناء والأثاث .

٥٦- لم تعرف مصر القديمة التخصص في مجال السلب .

٥٧- عرفت المتشابهة الهيروغليفية بالخط المقدس .

٥٨- استلورة إيزيس وإوزيريس من ألوان الأدب التسمي .

٥٩- انضم المجتمع المصري القديم بنظام الطبقة الواحدة .

٦٠- تشابهت الملابس في مصر القديمة بين طبقات المجتمع .

٦١- تعددت وسائل التسلية والترفيه عند المصريين القدماء .

٦٢- من الأعياد الدينية في مصر القديمة عيد رأس السنة وعيد الربيع .

٦٣- استخدم المصري القديم رموز الكتابة الهيروغليفية من عناصر البيئة المصرية .

٦٤- توصل العلم الحديث إلى سرّ التحنيط عند المصريين القدماء .

٦٥- تعد نصائح الحكيم بتاح حنن من الأدب الديني .

٦٦- استخدم المصريون الهندسة في معرفة مساحات الأراضي وقت قديم .

٦٧- بنى المصريون القدماء معبد الحكيم بتاح حنن في مصر القديمة .

٦٨- يمجّد أدب المديح أعمال فرعون .

٦٩- استخدم المصريون القدماء التقويم الشمسي .

٧٠- برع المصري القديم في فن النحت .

٧١- استطاع الإسكندر الأكبر توحيد بلاد الإغريق في إقليم مقدونيا .

٧٢- رحب المصريون بالفرس لخصائصهم من حكم الإمبراطور .

٧٣- عمل الإغريق كجنود مرتزقة في مصر قبل دخول الإسكندر .

٧٤- زار الإسكندر الأكبر معبد الأقصر ومعبد الكرنك .

٧٥- لقب الإسكندر بـ "ملك الملوك" .

٧٦- هزم الإسكندر الأكبر الفرس في آسيا الوسطى وبلاد فارس .

٧٧- ظلت راقودة عاصمة البلاد حتى تم بناء الإسكندرية .

٧٨- كانت الإسكندرية مركزاً لنشر الحضارة الإغريقية .

٧٩- استاء المصريون القدماء من حكم الفرس لهم .

٨٠- لقب الإسكندر الأكبر بابن الإله آمون .

٨١- رحب المصريون بالفرس ليخلصوهم من حكم الإسكندر الأكبر .

٨٢- قام الإسكندر الأكبر بزيارة معبد الإله آمون في طيبة .

٨٣- بعد وفاة الإسكندر الأكبر كانت مصر من نصيب أنطونيوس .

٨٤- الحضارة الهيلينية حضارة إغريقية خالصة .

٨٥- قام نظام حكم البطالمة في مصر على الحكم المطلق .

٨٦- اعتمد البطالمة على المصريين في تولي المناصب المهمة .

٨٧- يرجع الفضل إلى علماء الإسكندرية في اكتشاف دوران الأرض حول الشمس .

٨٨- أشهر علماء الهندسة في جامعة الإسكندرية العالم أرسطو .

٨٩- اهتم الإسكندر الأكبر بإنشاء مكتبة الإسكندرية .

- ٨٠- تعتبر مكتبة الإسكندرية أول مكتبة حكومية عرفها العالم القديم .
- ٨١- ظهرت عبادة سراجيس أثناء حكم البطالمة لمصر .
- ٨٢- تعد معابد فيلة التي أنشأها البطالمة من عجائب الدنيا .
- ٨٣- أنشأ البطالمة منارة الإسكندرية لأرشاد السفن في البحر .
- ٨٤- استمر حكم دولة البطالمة نحو ٧٠ عام تقريباً .
- ٨٥- كانت مدينة منف مركز إشعاع حضاري في عهد البطالمة .
- ٨٦- استخدم البطالمة اللغة القبطية لغة رسمية للبلاد .
- ٨٧- أصبحت مصر من نصيب بطليموس الأول بعد وفاة الإسكندر .
- ٨٨- استمر حكم البطالمة في مصر حوالي ٢٠٠ عام .
- ٨٩- ظلت مصر تنعم بالرخاء في عصر البطالمة حتى عهد بطليموس الثالث .
- ٩٠- سقطت دولة البطالمة لضعف وتنازع ملوكها .
- ٩١- عرفت الحضارة البطلمية باسم الحضارة الهيلنستية .
- ٩٢- قسم البطالمة مصر إلى ٢٢ إقليمياً .
- ٩٣- أقام البطالمة العديد من المدن التي اصطبغت بالعادات والتقاليد المصرية .
- ٩٤- اهتم البطالمة الأواخر بالمجالات الاقتصادية .
- ٩٥- اقتصر الطب العالوم في جامعة الإسكندرية على الطب والفلك .
- ٩٦- يرجع الفضل لعلماء جامعة الإسكندرية في معرفة دوران الأرض حول الشمس .
- ٩٧- اهتم الإسكندر الأكبر بإنشاء مكتبة الإسكندرية .
- ٩٨- من المعابد التي شيدها بالبطالمة معبد إيزيس في فيلة .
- ٩٩- لم تستطع الإمبراطورية الرومانية السيطرة على مصر في بداية ظهورها .
- ١٠٠- كانت العلاقات قوية بين البطالمة و الإمبراطورية الرومانية في المرحلة الأولى .
- ١٠١- انتصر أنطونيوس على أكتافيوس في معركة أكتيوم البحرية .
- ١٠٢- احتلت الإسكندرية المركز الأول بين المدن في نشر الحضارة الرومانية .
- ١٠٣- وقعت معركة أكتيوم البحرية على أنسواحل الغربية لبلاد اليونان .
- ١٠٤- انتصر أنطونيوس وكليوباترا السابعة على أكتافيوس في معركة أكتيوم البحرية .
- ١٠٥- أصبحت ولاية رومانية منذ عام ٣٠ ق . م .
- ١٠٦- احتلت الإسكندرية أثناء حكم الرومان لمصر المرتبة الثانية في الثقافة .
- ١٠٧- دخلت المسيحية مصر في منتصف القرن الثالث الميلادي .
- ١٠٨- أسس الرهبانية الفرديّة الراهب باخيوم .
- ١٠٩- أوصى الرسول ﷺ بأهل مصر خيراً .
- ١١٠- دخلت المسيحية مصر على يد القديس باخوم .
- ١١١- أقر قسطنطين المبادئ الأساسية للدين المسيحي .
- ١١٢- انتهى الاضطهاد الروماني للمسيحية بالفتح الإسلامي لمصر .
- ١١٣- يعد الأنبا أنطونيوس من أوائل الذين مارسوا الرهبنة الجماعية .
- ١١٤- دخلت المسيحية مصر على يد القديس باخوم .
- ١١٥- أقبل المصريون على اعتناق المسيحية .
- ١١٦- سعى الرومان للقضاء على المسيحية وأتباعها .
- ١١٧- بدأ الاضطهاد الروماني للمسيحية في عهد الإمبراطور دقلديانوس .
- ١١٨- أصبحت المسيحية الدين الرسمي للإمبراطورية الرومانية في عهد قسطنطين .
- ١١٩- لعبت مدينة الإسكندرية دور مهم في نشر المسيحية .
- ١٢٠- انتشر نظام الرهبانية في أنحاء العالم ثم انتقل إلى مصر .
- ١٢١- يعد الأنبا باخوم من أوائل الذين مارسوا الرهبنة الجماعية .
- ١٢٢- لم يقتصر دور الأديرة على النواحي الدينية فقط .
- ١٢٣- انتهى الاضطهاد الروماني للمسيحية في مصر بالفتح الإسلامي لها .

- ()
- ()
- ()
- ()
- ()
- ()
- ()
- ()
- ()
- ()
- ()

تتميز الحضارة المصرية القديمة بالعمارة الضخمة والهندسة المعمارية المتقدمة. كانت الحضارة المصرية القديمة من الحضارات العريقة التي ساهمت في تقدم البشرية. كانت الحضارة المصرية القديمة من الحضارات العريقة التي ساهمت في تقدم البشرية. كانت الحضارة المصرية القديمة من الحضارات العريقة التي ساهمت في تقدم البشرية.

سوابق ما تكتبه خطاً:

- ١- توصل المصريون القدماء إلى معرفة مواقع النجوم والكواكب عن طريق علم الحساب.
- ٢- قسم المصري القديم المساحة إلى خمسة فصول.
- ٣- كانت وحدات قياس مساحة الأراضي عند المصريين القدماء المتر والياردة.
- ٤- بنى المصريون القدماء مساكنهم من الحجر.
- ٥- احتل الفرعون وأسرته قمة طبقات المجتمع المصري القديم.
- ٦- الطبقة التي تلي طبقة فرعون وأسرته هي الطبقة الوسطى.
- ٧- تكون المجتمع المصري القديم من عدة طبقات كان آخرها صغار الموظفين.
- ٨- استخدم المصري القديم القطن في صناعة ملابس فرعون والأغنياء.
- ٩- صنع المصريون القدماء الورق من نبات الكتان.
- ١٠- أسطورة إيزيس وأوزيريس من أنواع الأدب القمهي في مصر القديمة.
- ١١- استخدم المصريون القدماء التقويم القمرى.
- ١٢- قسم المصريون القدماء السنة إلى خمسة فصول.
- ١٣- كانت وحدات قياس مساحة الأراضي عند المصريين القدماء الكمر والياردة.
- ١٤- صناعة الألوان والأصباغ دليلاً على نبوغ المصريين القدماء في علم الكيمياء.
- ١٥- قام الإسكندر الأكبر بفتح مصر عام ٣٣٢ ق.م.
- ١٦- أخرج ملوك البطالمة في مصر بطليموس الرابع.
- ١٧- ظهرت بمصر في عهد البطالمة عبادة جديدة هي عبادة رع.
- ١٨- اللغة اللاتينية هي اللغة الرسمية بمصر في عهد البطالمة.
- ١٩- من أشهر علماء جامعة الإسكندرية في الهندسة ثابيتون.
- ٢٠- من عجائب الدنيا السبع التي أسسها البطالمة جامعة الإسكندرية.
- ٢١- كانت الأجزاء الغربية للإمبراطورية الرومانية من نصيب الرومان.
- ٢٢- حكم **أكتافيوس** الأجزاء الشرقية من الإمبراطورية الرومانية.
- ٢٣- اقتصر **أكتافيوس** على أنطونيو وكتيوبا ترا السابغة في معركة أكتيوم عام ١٣ ق.م.
- ٢٤- قام البطالمة بتتسيير مصر إلى ٢٢ إقليماً.
- ٢٥- اشتقت كلمة قبطي من اللغة اللاتينية.
- ٢٦- أسس الأنبا أنطون نسطار الرهبانية الجماعية.

١٧- وقعت مصر تحت سيطرة الرومان قبل مجئ الإسكندر الأكبر.

٢٨- ولد الإسكندر في إقليم مقدونيا بشمال بلاد العراق.

٢٩- تولى الإسكندر الحكم وهو في سن الأربعين من عمره.

٣٠- أقام الإسكندر مدينة منف لتكون مركزاً لنشر الحضارة الإغريقية.

5- اكتب ما تشير إليه كل عبارة من العبارات الآتية :

- 1 مجموعة العادات والتقاليد التي كانت تتمسك بها جميع طبقات الشعب المصري في الملابس والأكل والمشرب.
- 2 الفئات التي ينظرون منها المجتمع في مصر الفرعونية، وما كان يوجد بينها من علاقات.
- 3 حضارة مصرية قديمة استحدثت في تسجيل النصوص الدينية وتركت باسم الخط المقدس.
- 4 كتاب مصرية قديمة سجلت بها معظم آداب المصريين القدماء.
- 5 كتابين مصريين قديمين استخدمت في جميع نواحي الحياة القديمة.
- 6 فنون مصرية سجلت على جدران بعض الأضرحة التي تكون عونا للميت في الحياة الآخرة.
- 7 معانيات دينية مصرية قديمة، مثل ورق الجرد، وتوضع مع الميت عند دفنه وما حمله.
- 8 أسطورة مصرية قديمة تؤمن بوجود التناسخ البدن والعدل في النهاية.
- 9 نبات استخدمه المصريون القدماء في صناعة الورق.
- 10 نبات مصرية قديمة بالذرة البحرية.
- 11 تقويم مصرية واستخدمه المصريون القدماء.
- 12 معابد مصرية خاصة للعبادة وتضريح القرابين.
- 13 نوع من الأدب المصري القديم يعتبر أرب الحكيم والنصائح والسلوكية والتربوية والأخلاقية.
- 14 نوع من الأدب المصري القديم يهدف إلى تهجيد أعمال فرعون.
- 15 الأيام الخمسة الأخيرة من حكل عام التي جملتها المصريون القدماء أيام أعياد.
- 16 معابد كانت تقام فيها الصلوات وطقوس الجنازة على المتوفى.

من أشهر علماء اليونانية الإغريقية في التاريخ .
 من أشهر علماء اليونانية الإغريقية في الفلسفة .
 أول مكتبات مكتوبة مصرية كانت تعرفها العالم القديم .
 الحضارة التي جمعتها بين الحضارة المصرية والحضارة الإغريقية .
 عبادة ظهرت في عهد البطالمة وهي مزيج بين الديانة المصرية والديانة الإغريقية .
 مصرية انتشرت فيها أكتشافات وأبحاث بعلم مصر والأحياء زواحف .
 إمبراطور روماني اعترف بالسيادة المصرية وطلب المصريين على اعتناقها .
 إمبراطور روماني اعترف بالسيادة المصرية وطلب المصريين على اعتناقها .
 اعتزال الحياة والعمل عن مناساتها والديانة في اهتمامه بدينه عن الناس .
 الفقه الفرسي في البلاد في عهد البطالمة .
 شكلها البطالمة وقدمت من عبادتها العالم القديم .

1- تعد الاسكندر الأكبر من أعظم الفاتحين في ضوء كلمة العبارة أجب عما يلي

- 1) أين نشأ الإسكندر الأكبر؟
- 2) لماذا رحب المصريون بفتح الإسكندر لبلادهم .
- 3) اذكر أهم أعمال الإسكندر الأكبر في مصر .
- 4) تعد جامعة الاسكندرية ومكتبتها الشهيرة صرحاً تامناً في مصر في العصر القديم في ضوء كذا العبارة أجب عما يلي .
- 1) اذكر أشهر الحقائق العلمية التي توصل إليها علماء جامعة الإسكندرية ؟
- 2) إلى من يرجع الفضل في إنشاء مكتبة الإسكندرية ؟
- 3) ما سبب شهرة مكتبة الإسكندرية قديماً ؟

تعد المنارة من المنافع المهمة في مدينة الاسكندرية في ضوء كذا العبارة أجب عما يلي

- 1) في عهد من بدأ بناء منارة الإسكندرية ، وفي عهد من تم بناؤها ؟
- 2) ما الهدف من إنشائها ؟
- 3) من نحات أول الملوك لولي عهده : اعطى الموظفين حقوقهم وجاهلهم ، لا يتعجبون لسمع لأن الرجل المحتاج ينحاز إلى الشخص الذي يصل فائدة رهنه وكل محايداً في حكمك بين الناس فالكل متساوي في ضوء ذلك أجب عما يلي
- 1) ماذا تستنتج من النصيحة السابقة ؟
- 2) ما الدروس المستفادة من هذه النصيحة

المشهور	معناه
طبقة اجتماعية	مجموعة من الأفراد تجمعهم صفات ومصالح وأهداف مشتركة.
حياة اجتماعية	مجموعة من العادات والتقاليد التي كانت تنسب بها جميع طبقات الشعب المصري من (ملابس - مأكول - مشروبات...).
نصوص الأهرام	مجموعة النصوص التي سُجّلت على جدران بعض الأهرامات لتكون عوناً للميت في الحياة الأخرى.
كتاب الموت	كتابات دينية كانت تُدون على أوراق البردي وتُوضع مع الميت لحمايته ومساعدته في الحساب.
أناشيد أختاتون	مجموعة من الأناشيد والصلوات التي كان يحمي بها أختاتون الإله (أتون).
أدب ديني	نوع من الأدب الذي تناول الحياة بعد الموت، ومعتقد البعث والخلود.
أدب قصصي	نوع من الأدب الذي يقدم القصص الحقيقية والخرافية وذلك بقصد تقديم القدوة والموعظة الحسنة.
أدب تهذيبي	أدب الحكم والنصائح والسواك والتربية والخلق.
أدب المديح	الأدب الذي يمجّد أعمال فرعون ويشيد بفضله.
تقويم شمسي	نظام تقويم اتبعه المصريون القدماء يقوم على تقسيم السنة إلى ٣٦٥ يوماً مقسمة على ١٢ شهراً وكل شهر ٣٠ يوماً وأطلقوا على الأيام الخمسة الأخيرة أيام النسى.
المعبد	دار العبادة كان يستخدمه المصريون القدماء.
بطالمة	اسم ينسب إلى بطلميوس الأول مؤسس دولة البطالمة في مصر.
جامعة	دار العلم يدرس فيها العديد من التخصصات المختلفة العلمية والأدبية.
اضطهاد المسيحيين	شكل من أشكال الظلم الذي عانى منه المسيحيون على يد الرومان.
عصر الشهداء	اسم يطلق على عهد الإمبراطور دقلديانوس لكثرة عدد الشهداء المسيحيين الذين قتلوا في عهده.
رهبانية	اعتزال الحياة والبُعد عن متاعها والعيش في الصحراء بعيداً عن الناس للعبادة والتأمل في خلق الله.

مواطن صالح	هو ذلك الشخص الذي لديه من القيم والمهارات والمعارف ما يساعده في المشاركة بفاعلية في حل قضايا المجتمع.
مواطنة	صفة للمواطن بحيث يتمتع بالحقوق، ويلتزم بالواجبات التي يفرضها عليه انتماءه لوطنه.
حقوق	مجموعة من الالتزامات الأخلاقية والقانونية على المستوى السياسى والاقتصادى والاجتماعى والثقافى والدينى التى يجب أن يتمتع بها المواطن.
واجبات	مجموعة المسؤوليات التى يجب على المواطن الالتزام بها تجاه مجتمعه ووطنه.

المفهوم	معناه
مناخ	متوسط حالة الجو في فترة زمنية طويلة من حيث الحرارة والضغط والرياح والأمطار.
طقس	وصف حالة الجو في فترة زمنية قصيرة (قد تكون يوماً أو يومين أو أسبوعاً)، من حيث الحرارة والضغط والرياح والأمطار.
إقليم مناخى	مناطق متصلة أو منفصلة من سطح الأرض، ولكنها متشابهة في خصائصها المناخية العامة من حيث: الحرارة، والرياح، والمطر.
نباتات دلبية	نبات ينمو دون تدخل الإنسان نتيجة لتفاعل عناصر المناخ مع التربة.
صحراء	هي أرض جافة شبه خالية من النبات الطبيعي.

سيول	أمطار غزيرة فجائية تتجمع في شبكات الأودية الصغيرة المنتشرة بالأماكن المرتفعة وتندفع بشدة نحو المناطق المنخفضة.
انهيار جليدى	تحرك الجليد نحو أسفل الجبل بسرعة شديدة.
فيضان	زيادة منسوب المياه عن معدله الطبيعي في الأنهار حتى يطفى على اليابس.
إعصار	عواصف هوائية دوارة حلزونية عنيفة، تنشأ عادة فوق المحيطات بالمنطقة الاستوائية.
تصحّر	تدهور القدرة الإنتاجية للأراضي الزراعية.
الاحتباس الحرارى	ارتفاع تدريجى في درجة حرارة الطبقة السفلى من الغلاف الجوى والقريبة لسطح الأرض.

امتحانات على الفصل الدراسي الثاني

(من موقع وزارة التربية والتعليم)

النموذج الأول

أجب عن الأسئلة الآتية ، أولاً الجغرافيا

- (١) أمامك نموذج مسطح لكرة الأرضية. انقله في كراسة الإجابة. وارسم عليه ما يلي :
 - (١) دائرة العرض الرئيسية.
 - (٢) خط الطول الرئيسي.
 - (٣) نقطتي القطب الشمالي والجنوبي.
- (ب) بم تفسر ... ؟
 - (١) تنوع النبات الطبيعي على سطح الأرض.
 - (٢) حدود الفيضانات.
 - (٣) للبراكين آثار إيجابية.

- اكتب كلمة (صواب) أمام العبارة الصحيحة، وكلمة (خطأ) أمام العبارة غير الصحيحة. مع التصويب :
 - (١) يمتد الإقليم المناخي الصحراوي الحار بين دائرتي عرض ١٨° ، ٣٠° شمالاً وجنوباً. ()
 - (٢) الغابات الصنوبرية تنمو في المناطق المعتدلة الدفيئة. ()
 - (٣) يقصد بحرائق الغابات تدهور القدرة الإنتاجية للأراضي الزراعية. ()
 - (٤) يمكن أن يحدث الزلزال نتيجة تحرك المواد المنصهرة في باطن الأرض. ()

ما النتائج المترتبة على ... ؟

- (١) حدوث الأعاصير.
- (٢) إزالة الإنسان مساحات واسعة من الغابات.
- (٣) تقابل الهواء البارد مع الهواء الساخن المحمل ببخار الماء.
- (٤) الانهيارات الجليدية.

التاريخ

- (١) اكتب ما تشير إليه كل عبارة من العبارات الآتية :
 - (١) اعتزال الحياة والبعث عن متاعها والعيش في الصحراء بعيداً عن الناس للعبادة والتأمل في خلق الله.
 - (٢) مجموعة النصوص التي سجلت على بعض جدران الأهرامات لتكون عوناً للميت في الحياة الأخرى.
 - (٣) قواعد عامة تنظم سلوك الأفراد وعلاقاتهم داخل المجتمع يترتب على مخالفتها وقوع الجزاء المناسب عليهم.
- (ب) ما النتائج التي تترتب على ... ؟
 - (١) إنشاء مدرسة الإسكندرية للتعليم المسيحي.
 - (٢) اضطهاد الإمبراطور الروماني دقلديانوس للمسيحيين.
 - (٣) اهتمام البطالمة الأوائل بالزراعة في مصر.

اختر الإجابة الصحيحة مما بين القوسين ،

- (١) المساواة وعدم التمييز - من الحقوق السياسية للمواطن ()
- التعبير عن رأيه - مستوى معيشة مناسب - ممارسة الشعائر الدينية ()
- (٢) نشأ الإسكندر الأكبر في إقليم (العراق - مقدونيا - إسبانيا - الجزائر) ()
- (٣) اعترف الإمبراطور بالمبادئ الأساسية للدين المسيحي. (الإسكندر الأكبر - دقلديانوس - أكتافايوس - قسطنطين) ()

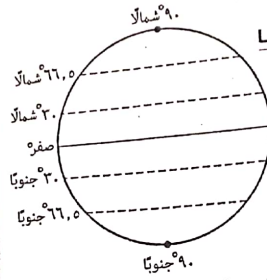
اكتب كلمة (صواب) أمام العبارة الصحيحة، وكلمة (خطأ) أمام العبارة غير الصحيحة. مع التصويب ،

- (١) الكلى من أدوات الزينة عند القدماء المصريين. ()
- (٢) من أنواع الأدب التهذيبي نصائح الحكيم بتاح حتب. ()
- (٣) تتشابه مساكن المصريين القدماء من حيث البناء والأثاث. ()
- (٤) احتلت الإسكندرية المركز الأول في مجال نشر العلم والثقافة تحت حكم الرومان. ()

النموذج الثاني

أولاً الجغرافيا

أجب عن الأسئلة الآتية :



- (أ) انقل الرسم الذى أمامك فى كراسة الاجابة، ثم حدد عليه أنواع الرياح الآتية :
- (١) الرياح التجارية الشمالية.
 - (٢) الرياح العكسية الجنوبية.
 - (٣) الرياح القطبية الشمالية.

- (ب) بم تفسر ... ؟ (١) سقوط أمطار غزيرة بالمنطقة الاستوائية طوال العام.
- (٢) حدوث الزلازل.
- (٣) حدوث الانهيارات الجليدية.

- اكتب كلمة (صواب) أمام العبارة الصحيحة، وكلمة (خطأ) أمام العبارة غير الصحيحة، مع التصويب :
- (١) الفيضان عبارة عن عواصف هوائية دوارة حلزونية عنيفة تنشأ عادة فوق المحيطات بالمنطقة المدارية. ()
 - (٢) المناخ وصف حالة الجو فى فترة زمنية قصيرة قد تكون يوماً أو يومين. ()
 - (٣) يمتد إقليم غرب أوروبا بين دائرتى عرض ٤٥ ، ٦٠ درجة شمالاً وجنوباً غرب القارات. ()
 - (٤) تعتبر الغابات من أهم الثروات الطبيعية فهى جزء من النظام البيئى. ()

ما النتائج المترتبة على ... ؟

- (١) حدوث ظاهرة السيول.
- (٢) ثوران البراكين.
- (٣) تنوع درجات الحرارة من مكان لآخر على سطح الأرض.
- (٤) وجود مناطق الضغط المرتفع والضغط المنخفض.

التاريخ

(أ) اكتب ما تشير إليه كل عبارة من العبارات الآتية :

- (١) دار للعبادة كان يستخدمه المصريون القدماء.
- (٢) مجموعة المسؤوليات التى يجب على المواطن الالتزام بها تجاه مجتمعه ووطنه.
- (٣) كتابة تُعرف بخط رجال الدين.

(ب) ما النتائج التى ترتبت على ... ؟

- (١) احترام المصريين القدماء لمهنة الطب.
- (٢) الفتح الإسلامى لمصر.

اختر الإجابة الصحيحة مما بين القوسين :

- (١) * كان على رأس الطبقات الاجتماعية فى مصر القديمة. (الوزير - الكاهن - الكاتب - فرعون)
- (٢) تولى الحكم وهو فى سن العشرين من عمره. (أكتافىوس - الإسكندر الأكبر - أنطونيوس - يوليوس قيصر)
- (٣) من أول المكتبات الحكومية العامة التى عرفها العالم القديم مكتبة (القاهرة - الإسكندرية - روما - العراق)
- (٤) بعد وفاة الإسكندر الأكبر كانت مصر من نصيب أحد قواده وهو (بطلميوس الأول - بطلميوس الثانى - بطلميوس الثالث - بطلميوس الرابع)

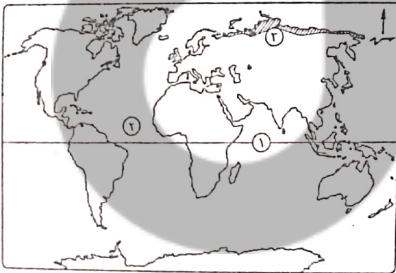
إلى من تنسب الأعمال الآتية ... ؟

- (١) قسم تاريخ مصر القديمة إلى ثلاثين أسرة فرعونية.
- (٢) زار معبد آمون بسيوة وقدم له القرابين ولقب بابن الإله آمون.
- (٣) دخلت المسيحية مصر على يده فى منتصف القرن الأول الميلادى.
- (٤) اضطهد المسيحيين وسُمى عصره بعصر الشهداء.

النموذج الثالث

أولاً الجغرافيا

أجب عن الأسئلة الآتية :



- (أ) أمامك خريطة للعالم، اكتب ما تدل عليه الأرقام الآتية :

- (١) دائرة عرض
- (٢) المحيط
- (٣) إقليم مناخى

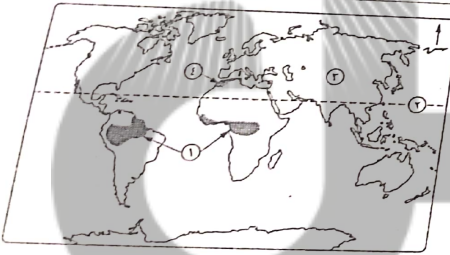
(ب) بم تفسر ... ؟

- (١) حدوث بعض التغيرات المناخية.
- (٢) للبراكين فوائد عديدة.
- (٣) الرياح التجارية تطلق حرارة المناطق التى تهب عليها.

النموذج الرابع

أجب عن الأسئلة الآتية ، أولاً الجغرافيا

- (١) اختر الإجابة الصحيحة مما بين القوسين :
 (١) يمتد الإقليم المناخي بين الدرتي عرض ١٠° شمالاً ، ١٠° جنوباً .
 (الاستوائي - المداري الحار - المعتدل البارد - التندرا)
 (٢) تعمل الرياح على تلطيف درجات الحرارة على المناطق التي تهب عليها
 بسبب قدومها من جهات أقل حرارة . (التجارية - العكسية - الحارة - الموسمية)
 (٣) يمتد الإقليم المناخي جنوب شرق قارة آسيا .
 (الاستوائي - القاري البارد - الموسمي - الصيني)
 (٤) من الآثار الإيجابية للبراكين تكوّن (الجزر - البحار - المحيطات - الأودية)
 (٥) تغذية خزانات المياه الجوفية من الآثار الإيجابية عند حدوث
 (الفيضانات - السيول - التصحر - الانهيارات الجليدية)
- (ب) ما التصود بكل من ... ؟
 (١) المدى الحراري السنوي .
 (٢) إقليم مناخي .
 (٣) الغابات .
 (٤) الأعاصير .



- (١) أمامك خريطة للعالم، اكتب ما تدل عليه الأرقام الآتية :
 (١) إقليم مناخي
 (٢) دائرة عرض
 (٣) قارة
 (٤) غابات

(ب) قارن بين : أضرار الاحتباس الحراري، وأضرار الانهيارات الجليدية.

- ماذا يحدث إذا ... ؟
 (١) لم تقم مصر ببناء السد العالي .
 (٢) استمر قطع الأشجار بطريقة عشوائية .
 (٣) هبت الرياح الموسمية الصيفية من اليابس إلى الماء .
 (٤) انخفضت درجات الحرارة في العالم .

- (١) اختر الإجابة الصحيحة مما بين القوسين :
 (١) من الأشجار التي تتحمل الجفاف
 (الظن - الشربين - الماهوجني - الكاكاو)
 (٢) المطر التصاعدي الغزير من خصائص الإقليم المناخي .
 (الاستوائي - الموسمي - الصحراوي - البارد)
 (٣) تُعد من أخطار المياه . (الزلازل - البراكين - التصحر - الانهيارات الجليدية)
 (ب) ما المقصود بكل من ... ؟ (١) الرياح الدائمة . (٢) التصحر .

- (١) في ضوء دراستك أجب عما يأتي :
 (١) ما الآثار السلبية الناتجة عن حدوث السيول ؟
 (٢) ماذا يحدث إذا : أزال الإنسان كل الغابات من سطح الكرة الأرضية ؟
 (٣) حدد الآثار الإيجابية للفيضانات .
 (ب) اذكر موسم سقوط المطر في كل إقليم مناخي مما يأتي ،
 (١) الإقليم المداري .
 (٢) إقليم البحر المتوسط .

التاريخ

- (١) برهن على صحة العبارتين الآتيتين :
 (١) براعة المصريين القدماء في علم الطب .
 (٢) أدرك البطلمة أهمية العقيدة الدينية في حياة المصريين .
 (ب) قارن بين : معابد الآلهة، والمعابد الجنائزية .
 (ج) ما : أهم الصفات الأساسية للمواطن الصالح ؟
 صوب ما تحتمه خط :
 (١) صنع المصريون القدماء الورق من نبات الحلفا .
 (٢) ابتكر المصريون القدماء التقويم القمري .
 (٣) من علماء الإسكندرية في الهندسة أرشميدس .
 (٤) أول من مارس الرهينة الفردية في مصر الراهب باخوم .

- م تفسر ... ؟
 (١) اهتمام المصري القديم بالأدب التهديبي .
 (٢) إطلاق لقب أعظم الفاتحين على الإسكندر الأكبر .
 (٣) سعى عصر دقلديانوس بعصر الشهداء .
 (٤) أهمية القانون .

(ب) اكتب المصطلح الذي يصف كل عبارة من العبارات الآتية .

- (١) * الرياح التي تغير اتجاهها بين الصيف والشتاء.
- (٢) غابات دائمة الخضرة غطاءها الوردي مخروطي الشكل.
- (٣) إقليم مناخي حار يمتد بين دائرتي عرض ١٠° شمالاً، ١٠° جنوباً.
- (ج) ما مقترحاتك لـ تقليل الاحتباس الحراري في العالم ؟

٢٤ بهم تفسر ... ؟

- (١) المنطقة الاستوائية من المناطق غزيرة المطر.
- (٢) حدوث البراكين.
- (٣) ينمو الصبار في الصحاري.
- (٤) اختلاف درجات الحرارة على سطح الأرض رغم أن مصدرها واحد.
- (٥) اختلاف درجات الحرارة على سطح الأرض رغم أن مصدرها واحد.
- (٦) حدوث البراكين.
- (٧) ينمو الصبار في الصحاري.
- (٨) اختلاف درجات الحرارة على سطح الأرض رغم أن مصدرها واحد.
- (٩) اختلاف درجات الحرارة على سطح الأرض رغم أن مصدرها واحد.

التاريخ

(١) اختر الإجابة الصحيحة مما بين القوسين :

- (١) أعلن سياسة التسامح مع المسيحيين الإمبراطور (أ) أكتافينوس - (ب) قسطنطين - (ج) أكتافينوس - (د) أنطونيوس)
 - (٢) قسم المؤرخ المصري تاريخ مصر القديمة إلى ثلاثين أسرة. (أ) مانيتون - (ب) إقليدس - (ج) أرسطو - (د) أرشميدس)
 - (٣) استورد المصري القديم من فينيقيا (أ) القطن - (ب) الصوف - (ج) الحرير - (د) الكتان)
 - (٤) أقام البطالة العديد من المدن التي جمعت أسماء (أ) إغريقية - (ب) عربية - (ج) فارسية - (د) رومانية)
- (ب) قارن بين :
- (١) الأدب التهذيبي، وأدب الدبغ عند المصريين القدماء.
 - (٢) نظام الإدارة في مصر تحت حكم البطالة، وتحت حكم الرومان، من حيث :
* التقسيم الإداري.
* اللغة.

التاريخ

(١) بهم تفسر ... ؟

- (١) عدم صعود مساكن المصريين القدماء مع مرور الزمن.
- (٢) ثورة الرعاة والفلّاحين في القرن الثاني الميلادي ضد الرومان.
- (٣) تأسيس الإسكندر الأكبر لبلدية الإسكندرية.
- (ب) ما التصود بكل من ... ؟
(١) أدب تهذيبي.
(٢) حضارة هيلينية.

٢٥ من هو ... ؟

- (١) ملك مصري أقام معبد الرسيوم.
- (٢) زار معبد الإله آمون وقدم له القرابين.
- (٣) من أشهر علماء جامعة الإسكندرية وصاحب قانون الطوف.
- (٤) قام بتأسيس الرهبة الجماعية في مصر.

«كان المجتمع المصري منذ نشأته حريصاً على وحدته وتماسكه».

في ضوء العبارة أعجب عما يأتي :

- (١) ما الراجبات التي كان يقوم بها الأبناء نحو والديهم في مصر الفرعونية ؟
- (٢) ما دوافع اعتناق المصريين للمسيحية ؟
- (٣) ما أهم صفات المواطن الصالح ؟
- (٤) قارن بين : الحقوق الاقتصادية، والحقوق السياسية للمواطن المصري.

النموذج الخامس

أولاً الجغرافيا

أجب عن الأسئلة الآتية :

- (١) أمامك خريطة للعالم، اكتب ما تدل عليه الأرقام الآتية :
(١) قــــــــــــــــارة
(٢) حشائش
(٣) إقليم مناخي
(٤) دائرة عرض

