

## الاختبار الثاني

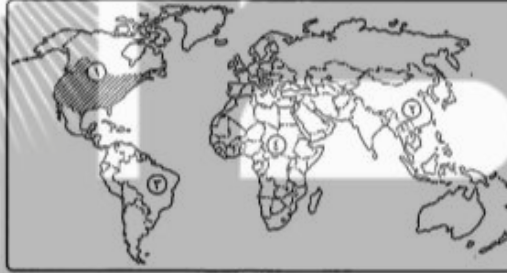
### أكمل:

- ١) من محاصيل الحبوب الغذائية ..... و..... و.....
- ٢) من الدول المنتجة للقمح في آسيا ..... و.....
- ٣) قارة ..... هي أولى قارات العالم في إنتاج البنجر وأهم دولها المنتجة له .....
- ٤) أولى قارات العالم إنتاجاً للذرة هي..... وتستخدم الإنتاج ..... للماشية وتصدر جزء منه للخارج.
- ٥) أهم دول العالم المنتجة لقصب السكر ..... وهياولى الدول المنتجة .....
- ٦) من أهم الدول المنتجة للقطن في آسيا ..... و ..... وفي أفريقيا ..... و .....
- ٧) يحتاج الشاي لزراعته مناخ ..... وهواء ..... وأمطار غزيرة وتربة .....

### بم تفسر:

- ١) تركز زراعة البنجر في قارة أوروبا ؟
- ٢) أهمية محصول القطن ؟
- ٣) يعتبر القطن في مصر والسودان من أجود أنواع القطن في العالم ؟
- ٤) زراعة الأرض بأكثر من محصول في العام الواحد في مناطق الزراعة الكثيفة ؟

### اكتب ما تحل عليه الأرقام الآتية:



- ١) نوع الزراعة السائدة في هذه المنطقة .....
- ٢) أولى الدول المنتجة للقمح .....
- ٣) أولى الدول المنتجة لقصب السكر .....
- ٤) رابع قارات العالم إنتاجاً للقطن .....

### ضع علامة (✓) أو (x):

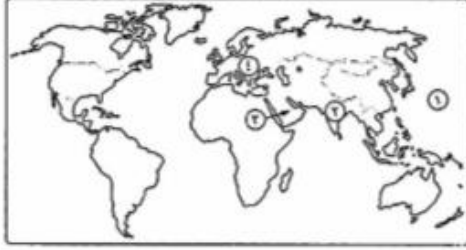
- ١) تحتاج زراعة الشاي إلى تربة خصبة خفيفة ومناخ حار وهواء رطب. ( )
- ٢) تتركز زراعة القطن في قارة أوروبا وتعد الصين والهند من أكبر الدول المنتجة له. ( )
- ٣) تسود الزراعة الكثيفة في المناطق الحارة على هوامش الغابات الاستوائية. ( )
- ٤) تعد الصين والهند أولى دول العالم إنتاجاً للقمح والقطن. ( )
- ٥) تخصص مناطق الزراعة الواسعة في أمريكا الشمالية في زراعة الشاي والقطن. ( )

- قارن بين:** ١) قارة آسيا وقارة أمريكا الشمالية من حيث: (أهم المحاصيل التي يتم إنتاجها في القارة وأهم الدول المنتجة لها).  
٢) القصب والبنجر من حيث: (ظروف الزراعة - الأهمية - أهم القارات المنتجة).  
٣) الزراعة الكثيفة والزراعة الواسعة من حيث: (أماكن الانتشار - أهم المحاصيل).

### اختر الإجابة الصحيحة:

- ١) ثالث الدول المنتجة للسكر هي. ( الهند - الصين - الولايات المتحدة - البرازيل )
- ٢) أولى القارات في إنتاج المطاط هي. ( آسيا - أفريقيا - أوروبا - أمريكا الشمالية )
- ٣) أهم الدول المنتجة للشاي هي. ( الهند - الصين - تايلاند - السودان )
- ٤) تعد ..... أولى دول العالم إنتاجاً للقمح. ( الصين - اليابان - المغرب - كندا )

## اختبار



### أكتب ما تشير إليه الأرقام الآتية:

- ١) المحيط .....
- ٢) أولى قارات العالم إنتاجاً للالبان .....
- ٣) أولى دول العالم في إنتاج البترول .....
- ٤) أولى دول العالم إنتاجاً للبنجر .....

### بم تفسر:

- ١) محتاج الزراعة الكثيفة أيدي عاملة كثيرة ؟
- ٢) إنشاء القوات المصرية معابر على طول قناة السويس ؟
- ٣) هزيمة الجيش المصري في حرب فلسطين ؟
- ٤) أستراليا هي أولى دول العالم المنتجة للصوص ؟
- ٥) مغادرة الملك فاروق البلاد قبل الموعد المحدد له ؟
- ٦) دخول الجيوش العربية حرب فلسطين ١٩٤٨ م ؟

### اختر الإجابة الصحيحة مما بين القوسين:

- ١) قائد خطة خداع إسرائيل في حرب أكتوبر هو. (الفريق سعد الدين الشاذلي - المشير أحمد إسماعيل - الفريق محمد عبد الغنى الجمسى).
- ٢) أولى الدول إنتاجاً للنفط هي. (شيلي - الولايات المتحدة - الصين).
- ٣) تعتبر دولة ..... أكبر الدول المنتجة للشاي. (البرازيل - الهند - الصين - الولايات المتحدة).
- ٤) أولى الدول إنتاجاً للفوسفات. (جنوب أفريقيا - الولايات المتحدة - الصين).
- ٥) أولى الدول إنتاجاً للمطاط. (الصين - تايلاند - الولايات المتحدة).

### وضح ما يلي:

- ١) الأنواع الرئيسية للزراعة مع أماكن انتشار كل منها وأهم المحاصيل التي تزرع.

### دلي:

- ١) هناك عوامل تساعد على تطور حرفة صيد وتربية الأسماك ؟
- ٢) أنهت حرب أكتوبر ١٩٧٣ م نظرية الأمن الإسرائيلية ؟

### ما النتائج المترتبة على:

- ١) اجتماع وزراء النفط العربى بالكويت أثناء حرب أكتوبر ١٩٧٣ م ؟
- ٢) فشل العدوان الثلاثى على مصر ١٩٥٦ م ؟
- ٣) إصدار قوانين الإصلاح الزراعى ؟
- ٤) معركة رأس العش ؟
- ٥) رخص ثمن الغاز الطبيعى وتعدد استخداماته ؟

### أكتب ما تشير إليه:

- ١) زراعة يقوم بها عدد قليل من السكان في مناطق صغيرة ومعزولة.
- ٢) نوع من أنواع الرعى يمارسه سكان المناطق الصحراوية في مساحات واسعة من قارات العالم.
- ٣) مدينة عربية تم تقسيمها بين العرب وإسرائيل عام ١٩٤٨ م.

## اختبار

### بم تفسر:

- ١) صعوبة استخدام الميكنة الزراعية في الزراعة الكثيفة ؟
- ٢) فشل العدوان الثلاثي على مصر ١٩٥٦ م ؟
- ٣) توطن صناعة الألومنيوم في الدول المتقدمة ؟
- ٤) الأهمية الاقتصادية للأصواف والجلود ؟
- ٥) عدم إمكانية زراعة قصب السكر في أوروبا ؟
- ٦) مارس البشر في الماضي العديد من الأنشطة الاقتصادية البدائية ؟

### أختر الإجابة الصحيحة:

- ١) مؤسس الحركة الصهيونية هو .....  
(بلفور - روجرز - هرتزل)
- ٢) من الدول المستوردة للحديد .....  
(الهند - اليابان - موريتانيا - البرازيل)
- ٣) تنتشر الزراعة البسيطة في المناطق .....  
(الحارة - المعتدلة - الباردة - المعتدلة الباردة)
- ٤) أولى الدول إنتاجاً للبترول هي .....  
(إيران - الولايات المتحدة - روسيا - السعودية)
- ٥) أصبح لبريطانيا حق الانتداب على فلسطين وفقاً لمؤتمر .....  
(باريس - لندن - مونترو - سان ريمو)
- ٦) من إنجازات ثورة ٢٣ يوليو في المجال الاجتماعي . (تخصير البتوك - استصلاح الأراضي - إنشاء المصانع - جعل التعليم بالمجان)
- ٧) قامت ثورة ١٩٣٦ م بفلسطين برئاسة مفتي القدس . (الشيخ عز الدين القسام - الحاج أمين الحيني - الشيخ أحمد ياسين)

### ما النتائج المترتبة على:

- ١) إنشاء السد العالي ؟
- ٢) تدفق البترول وتوطين البدو في شبه الجزيرة العربية ؟
- ٣) هزيمة الجيوش العربية في حرب فلسطين ١٩٤٨ م ؟

### ضع علامة (✓) أو (x) مع التصويب:

- ١) كان عماد الثورة الصناعية في أوروبا أواخر القرن الـ ١٨ هو البترول. ( )
- ٢) يشكل الفحم مع البترول نحو ٥٥% من الطاقة المستخدمة في العالم. ( )
- ٣) تعد أوروبا أولى القارات المنتجة للغاز الطبيعي وتنتج ثلث الإنتاج. ( )
- ٤) تعتمد قارة أوروبا على قصب السكر في إنتاج السكر. ( )
- ٥) تعتبر أستراليا أولى الدول المنتجة للفحم. ( )

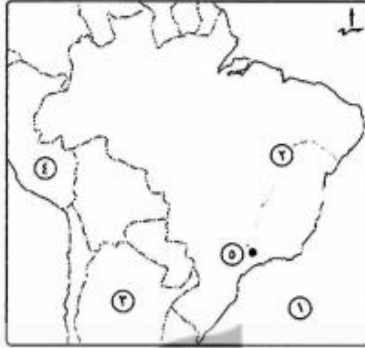
### قارن بين:

- ١) الحديد والنحاس من حيث: (الأهمية - أهم الدول المنتجة).
- ٢) البترول والفحم من حيث: (التكوين - أهم الدول المنتجة).

### دلي:

- ١) لتطوير حرفة إنتاج الأسماك لابد من توافر عوامل طبيعية وبشرية ؟
- ٢) توجد عدة عمليات تسبق عملية التعدين ؟
- ٣) اهتمت ثورة ٢٣ يوليو ١٩٥٢ م بمجال الزراعة ؟
- ٤) للفحم ثلاثة أنواع تختلف وجودها وجودتها ؟
- ٥) توسع الدول حالياً في استخدام الغاز الطبيعي ؟

## اختبار



### اكتب ما تشير إليه الأرقام الآتية:

- (١) المحيط .....
- (٢) نهر .....
- (٣) دولة .....
- (٤) دولة .....
- (٥) مدينة .....

### بم تفسر:

- (١) النشاط الزراعي من الأنشطة الاقتصادية المهمة في العالم ؟
- (٢) استطاعت الهند مواجهة المشكلة السكانية ؟
- (٣) الأهمية الاقتصادية للمعادن ؟

### لمن تنسب الأعمال الآتية:

- (١) أذاع البيان الأول لثورة ٢٣ يوليو ١٨٥٢ م ؟
- (٢) قاد اللجنة العربية في ثورة عام ١٩٣٦ م ؟
- (٣) توقيع معاهدة السلام بين مصر وإسرائيل عام ١٩٧٩ م ؟
- (٤) دعا الرئيس السادات وبيجين إلى اجتماعات في كامب ديفيد ؟

### ما النتائج المقترية على:

- (١) سوء الأحوال الاجتماعية قبل ثورة ٢٣ يوليو ١٩٥٢ م ؟
- (٢) إنشاء السد العالي ؟
- (٣) افتقار الهند للبتروال ؟
- (٤) حرب فلسطين ١٩٤٨ م ؟

### ما المقصود بالمصطلحات الآتية:

- (١) الزراعة البسيطة ؟
- (٢) الزراعة الكثيفة ؟

### دل على صحة العبارات الآتية:

- (١) تركز الصناعة في الدول المتقدمة ؟
- (٢) تعتبر جمهورية الهند شبه جزيرة ؟
- (٣) يتكون شعب البرازيل من أجناس مختلفة ؟

### صوب ما تحته خط:

- (١) تستخدم الذرة الشامية في أمريكا الشمالية كغذاء للإنسان.
- (٢) أوروبا أكثر قارات العالم إنتاجاً للقطن.
- (٣) أستراليا أكبر دول العالم إنتاجاً لقصب السكر.
- (٤) عقد مؤتمر دول عدم الإنحياز عام ١٩٥٥ م في باندونج بأستراليا.
- (٥) أنهت حرب أكتوبر ١٩٧٣ م حالة اللاسلم واللاحرب بين مصر وفرنسا.

## اختبار

### أكمل:

- ١) ينقسم الفحم إلى ثلاثة أنواع هي البيتوميني و.....و.....
- ٢) تتقدم دولة ..... الدول العربية في إنتاج الكهرباء من الرياح.
- ٣) من أهم المناطق الصناعية في إقليم روسيا- أوكرانيا الصناعي .....
- ٤) تنتشر الزراعة البسيطة في المناطق .....
- ٥) تقع دولة ..... داخل حدود الهند.
- ٦) توجد هضبة ..... بالهند وهي على شكل ..... تقطعها الأنهار الصغيرة.
- ٧) توجد جبال ..... شمال الهند بينما توجد جبال ..... في الغرب وجبال ..... في الشرق.
- ٨) من أهم السهول الفيضية بالهند سهل نهر ..... شمال الهند وسهل نهر ..... في الجنوب.
- ٩) ترجع جذور نشأة الحركة ..... إلى هرتزل واتخذت من مدينة ..... مقراً لها.
- ١٠) بعد الحرب العالمية الأولى قررت عصبة الأمم وضع فلسطين تحت الانتداب .....
- ١١) ارتكب اليهود في فلسطين مذابح بشعة مثل .....
- ١٢) من أسباب العدوان الثلاثي مساندة مصر لحركات التحرر الوطني في ..... ضد الاحتلال الفرنسي.
- ١٣) أظهرت حرب أكتوبر ١٩٧٣ م أهمية استخدام سلاح .....

### بم تفسر:

- ١) يعتبر النشاط الزراعي من الأنشطة الاقتصادية المهمة في العالم؟
- ٢) العدوان الثلاثي على مصر؟
- ٣) سوء الأحوال الاجتماعية في مصر قبل ثورة ٢٣ يوليو؟

### ضع علامة (✓) أو (×):

- ١) من أهداف قيام ثورة ٢٣ يوليو ١٩٥٢ م التخلص من الاحتلال البريطاني. ( )
- ٢) أعطى مؤتمر مدريد لبريطانيا حق الانتداب على فلسطين ١٩٢٠ م. ( )
- ٣) تستخدم الذرة الشامية في أمريكا الشمالية كغذاء للإنسان. ( )
- ٤) أستراليا أكبر دول العالم إنتاجاً لتقصب السكر. ( )
- ٥) قارة أوروبا أكثر قارات العالم إنتاجاً للبتروك كمصدر للطاقة. ( )

### قارن بين:

مدينة نيودلهي	مدينة حيد أباد

### ما النتائج المترتبة على:

- ١) عقد مؤتمر مدريد للسلام عام ١٩٩١ م؟
- ٢) قيام ثورة ٢٣ يوليو ١٩٥٢ م في مجال التجارة؟

### اكتب المصطلح الذي تعبر عنه كل عبارة مما يأتي:

- ١) زراعة الأرض أكثر من مرة في العام لإشباع حاجة السكان المحليين من الغذاء.
- ٢) نوع من أنواع الرعي يمارسه سكان المناطق الصحراوية في مساحات واسعة في قارات العالم.

## اختبار



### اكتب ما تشير إليه الأرقام الآتية:

- (١) السهل .....
- (٢) نهر .....
- (٣) دولة .....
- (٤) البحر .....

### دل على صحة العبارات الآتية:

- (١) غنى نيجيريا بمصادر الطاقة ؟
- (٢) توسع العالم في استخدام الغاز الطبيعي ؟
- (٣) حققت مبادرة السلام للرئيس السادات عام ١٩٧٧ م أهدافها ؟

### بم تفسر:

- (١) ينتج قصب السكر في كل قارات العالم ماعدا أوروبا ؟
- (٢) الدول المنتجة للبوكسيت ليست هي المنتجة للألومنيوم ؟
- (٣) فساد النظام الملكي قبل ثورة ٢٣ يوليو ١٩٥٢ م ؟
- (٤) زيارة الرئيس السادات للقدس عام ١٩٧٧ م ؟

### أختَر الإجابة الصحيحة:

- (١) استمرت الوحدة بين مصر وسوريا لمدة ..... سنوات. (خمس - سبع - تسع - ثلاث)
- (٢) وافقت هيئة الأمم المتحدة في ١٩٤٧ م على. (الانتداب البريطاني على فلسطين - تقسيم فلسطين - ضم القدس للدولة اليهودية - تقسيم سوريا)
- (٣) تعد قارة آسيا أولى قارات العالم إنتاجاً لـ ..... (الغاز الطبيعي - الطاقة النووية - القمح - البنجر)
- (٤) أكبر الأقاليم الصناعية في العالم الجديد إقليم ..... (شرق آسيا - شمال شرق الولايات المتحدة - روسيا - الصين)
- (٥) استمرت الوحدة بين مصر وسوريا لمدة ..... سنوات. (خمس - سبع - تسع - ثلاث)

### اكتب ما تشير إليه الجمل الآتية:

- (١) قانون صدر للقضاء على الإقطاع بتحديد الملكية الزراعية في سبتمبر ١٩٥٢ م.
- (٢) خطط عسكري منيع حطمته القوات المصرية في حرب أكتوبر ١٩٧٣ م.
- (٣) نص بريطاني يتضمن إنشاء وطن قومي لليهود في فلسطين ١٩١٧ م.

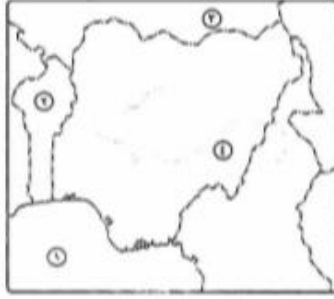
### ضع علامة (✓) أو (×) مع التصويب:

- ( ) (١) يعد القطن من المحاصيل المدارية.
- ( ) (٢) تأتي العراق في المركز الأول للإنتاج العالمي من البترول.
- ( ) (٣) عقد مؤتمر دول عدم الانحياز عام ١٩٥٥ م في باندونج بأستراليا.
- ( ) (٤) أنهت حرب أكتوبر ١٩٧٣ م حالة اللاسلم واللاحرب بين مصر وبريطانيا.
- ( ) (٥) اشترك في العدوان الثلاثي على مصر كل من فرنسا والولايات المتحدة وإسرائيل.

### قارن بين:

- (١) الزراعة البدائية والرعاة التجارية من حيث: (مناطق الانتشار - أهم الخصائص).

## اختبار



اكتب ما تشير إليه الأرقام الآتية:

- (١) خليج .....
- (٢) دولة .....
- (٣) دولة .....
- (٤) نهر .....

ما مدى صحة العبارات الآتية:

- (١) النشاط الزراعي من الأنشطة الاقتصادية المهمة.
- (٢) سواحل شمال غرب أوروبا من أهم مناطق صيد الأسماك في العالم.
- (٣) قررت عصبة الأمم وضع مصر تحت الانتداب البريطاني.
- (٤) أظهرت حرب أكتوبر ١٩٧٣ م أهمية استخدام سلاح المشاة.

قارن بين:

- (١) إقليم غرب ووسط أوروبا الصناعي ومراكز الصناعة الحديثة من حيث: (أهم مراكز الصناعة).
- (٢) حرب عام ١٩٤٨ م وحرب عام ١٩٧٣ م من حيث الأسباب.

بم نفيسر:

- (١) لجوء بعض الدول لصيد الحيتان ؟
- (٢) اعتبار البترول أهم مصادر الطاقة في العالم ؟
- (٣) قيام ثورة ٢٣ يوليو ١٩٥٢ م ؟
- (٤) العدوان الثلاثي على مصر ١٩٥٦ م ؟
- (٥) إنشاء عدة مدن على هضبة البرازيل ؟

لمن تنسب الأعمال الآتية:

- (١) إعطاء إشارة بدء الحرب في أكتوبر ١٩٧٣ م.
- (٢) قاد اللجنة العربية في ثورة ١٩٣٦ م وكان مفتى القدس.
- (٣) تنازل له والده عن عرش مصر عام ١٩٥٢ م.

ضع علامة (✓) أو (×) مع التصويب:

- ( ) (١) صدر أول قانون للإصلاح الزراعي في مصر عام ١٩٥٣ م.
- ( ) (٢) حصلت مصر على طابا بالقوة العسكرية.
- ( ) (٣) من الدول المنتجة لمعدن النحاس فرنسا والولايات المتحدة.
- ( ) (٤) من الثروات المائية القشريات مثل السبيط.
- ( ) (٥) يعد القطن من المحاصيل المدارية.

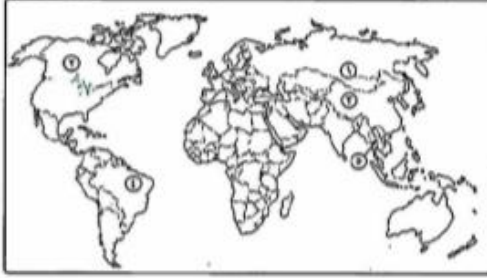
حدد أولى دول العالم إنتاجاً للموارد الآتية:

- (١) القمح ؟
- (٢) الفحم ؟
- (٣) المطاط ؟

أكمل:

- (١) تستورد مصر اللحوم والبن من دولة .....

## اختبار



### اكتب ما تشير إليه الأرقام الآتية:

- ١) أولى قارات العالم في إنتاج المطاط .....
- ٢) أولى قارات العالم في إنتاج الذرة .....
- ٣) أولى دول العالم في إنتاج القمح والشاي والقطن .....
- ٤) أولى دول العالم المنتجة للسكر .....
- ٥) أولى دول العالم المنتجة للمطاط .....

### اكتب ما تشير إليه الجمل الآتية:

- ١) زراعة الأرض بشكل مكثف ولأكثر من مرة في العام لأشباع حاجات السكان المحليين من الغذاء.
- ٢) تنظيم كونه ضباط الجيش المصري قبل ثورة ٢٣ يولي ١٩٥٢م للقضاء على الاستعمار والفساد.
- ٣) يستخرج من عصارة أشجار استوائية ويصنع منه اطارات السيارات.
- ٤) معاهدة جعلت مصر ميداناً للحرب العالمية الثانية.

### بم تفسر:

- ١) هزيمة الجيش المصري في حرب فلسطين ؟
- ٢) موافقة الملك فاروق على مطالب الثورة ومخادته البلاد ؟
- ٣) عجز الأحزاب السياسية عن التعبير عن إرادة الشعب ومطالبه ؟
- ٤) يعد النشاط الزراعي من الأنشطة الاقتصادية الأساسية في العالم ؟
- ٥) شهرة قارة أوروبا بإنتاج السكر من البنجر ؟

- فازن بين: ١) الزراعة الكثيفة والزراعة التجارية والعلمية من حيث: (المفهوم - أهم المحاصيل).  
٢) قصب السكر والبنجر من حيث: (ظروف الزراعة - أهم القارات والدول المنتجة).

### من هو:

- ١) تولى رئاسة الحكومة المصرية في فبراير ١٩٤م ؟
- ٢) أذاع البيان الأول لثورة ٢٣ يوليو من دار الإذاعة المصرية ؟
- ٣) تنازل له الملك فاروق عن عرش مصر عام ١٩٥٢م ؟
- ٤) أول رئيس لجمهورية مصر العربية عقب إلغاء الملكية ١٩٥٣م ؟

### اختر الإجابة الصحيحة:

- ١) من محاصيل الألياف .....
  - ٢) ينتج قصب السكر في كل قارات العالم ماعدا قارة .....
  - ٣) توقيع اتفاقية الجلاء أكتوبر ١٩٥٤م من إنجازات ثورة ٢٣ يوليو في المجال.
  - ٤) أول رئيس للجمهورية المصرية هو:
  - ٥) من الانجازات السياسية لثورة ٢٣ يوليو تأميم:
- (الذرة - الكتان - الشاي - المطاط)  
(أفريقيا - أستراليا - أوروبا - آسيا)  
(السياسي - الاجتماعي - الاقتصادي)  
(محمد أنور السادات - جمال عبد الناصر - اللواء محمد نجيب)  
(شركات التأمين - شركة قناة السويس - البنوك)

### دل:

- ١) لم يؤدي توقيع معاهدة ١٩٣٦م للاستقلال التام لمصر ؟

## اختبار



### أكتب ما تشير إليه الأرقام الآتية:

- ١) جبال .....
- ٢) جبال .....
- ٣) جبال .....
- ٤) هضبة .....
- ٥) نهر .....
- ٦) مدينة .....

### بم تفسر:

- ١) ارتباط صناعة الألمنيوم بالدول المتقدمة ؟
- ٢) يقل عدد السكان في دلتا نهر النيجر ؟
- ٣) تقدم الصناعة في ألمانيا بعد الحرب العالمية الثانية ؟

### أكتب ما تشير إليه الجمل الآتية:

- ١) تتم في مزارع واسعة وتستخدم أحدث الآلات الزراعية والطرق العلمية الحديثة.
- ٢) مصدر طاقة يستخرج من باطن الأرض على شكل صلب.
- ٣) أكبر الأقاليم الصناعية في العالم الجديد وقد تطورت الصناعة فيه بسبب توفر مقومات الصناعة.

### في أي دول توجد المدن الآتية:

- ١) ميونخ ؟      ٢) لاجوس ؟      ٣) نيويورك ؟

### ما المقصود بـ: ١) علم الانحياز ؟

- ٢) الحياة النيابية ؟

### ضع علامة (✓) أو (×) مع التصويب:

- ١) يعد قصب السكر من المحاصيل الأساسية لإنتاج السكر ويزرع في المناطق المعتدلة. ( )
- ٢) تنتشر الزراعة الكثيفة على هوامش الغابات الاستوائية. ( )
- ٣) تعد قارة أوروبا ثاني قارات العالم إنتاجاً للطاقة النووية. ( )
- ٤) السلطة التشريعية تتكون من مؤسسة الرئاسة ويرأسها رئيس الجمهورية. ( )
- ٥) قام حزب الإصلاح على المبادئ الدستورية برئاسة الشيخ علي يوسف. ( )

### قارن بين: القطن والمطاط الطبيعي من حيث: (أولى الدول المنتجة - الأهمية الاقتصادية).

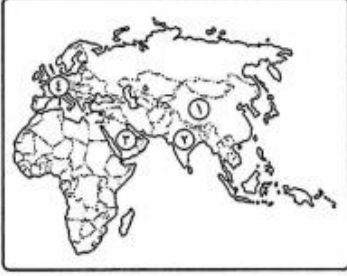
### ما النتائج المترتبة على:

- ١) عقد مؤتمر سان ريمو أبريل ١٩٢٠ م ؟
- ٢) حرب فلسطين ١٩٤٨ م ؟

### رتب الأحداث الآتية من الأقدم إلى الأحدث:

- ١) خروج آخر جندي بريطاني من فلسطين.
- ٢) أقامت الولايات المتحدة جسراً جويّاً لتقديم المساعدات العسكرية لإسرائيل.
- ٣) استعادت مصر طابا وعادت للسيادة المصرية.
- ٤) تشكيل لجنة الوفد المركزية للسيدات وانتخاب هدى شعراوي رئيساً لها.

## اختبار



- ( )  
( )  
( )  
( )  
( )

### أكتب ما تشير إليه الأرقام الآتية:

- ١) أولى دول العالم إنتاجاً للأسياك .....
- ٢) من أهم الدول الآسيوية المنتجة للقطن .....
- ٣) أولى دول العالم إنتاجاً للبترول .....
- ٤) قارة تتركز بها زراعة البنجر .....

### ضع علامة (✓) أو (×) مع التصويب:

- ١) يعتمد الرعي البدائي على التخصص في تربية حيوان واحد.
- ٢) أكثر القارات استخداماً للطاقة النووية هي أوروبا.
- ٣) يتم إنتاج الألومنيوم من معدن المنجنيز.
- ٤) قائد القيادة الموحدة للقوات المصرية والإسرائيلية في حرب أكتوبر هو المشير أحمد إسماعيل.
- ٥) طلبت مصر من قوات الطوارئ الدولية الإنسحاب من على حدودها عام ١٩٦٧م.

### يتم تفسير:

- ١) قلة عدد العاملين بحرفة الرعي البدائي في صحراء شبه الجزيرة العربية وبادية الشام ؟
- ٢) أهمية معدن النحاس ؟
- ٣) توسع العالم في استخدام الغاز الطبيعي كبديل لمصادر الطاقة الأخرى ؟
- ٤) فشل العدوان الثلاثي على مصر ؟
- ٥) هزيمة الجيش المصري في حرب فلسطين ١٩٤٨م ؟

### حدد الدول الأولى عالمياً في إنتاج كل من:

- ١) قصب السكر. ٢) القمح. ٣) الألومنيوم. ٤) البترول.

### اختر الإجابة الصحيحة مما بين الأقواس:

- ١) أولى دول العالم إنتاجاً للمطاط الطبيعي. (الصين - الهند - البرازيل - تايلاند)
- ٢) استمرت الوحدة بين مصر وسوريا لمدة ..... سنوات. (خمس - سبع - تسع - ثلاث)
- ٣) تعد قارة آسيا أولى قارات العالم إنتاجاً لـ. (القمح - الغاز الطبيعي - الطاقة النووية - البنجر)
- ٤) وضعت فلسطين تحت الانتداب البريطاني وفقاً لقرارات مؤتمر. (لندن - الصلح - كامب ديفيد - سان ريمو)
- ٥) أعطى الرئيس ..... إشارة بدء حرب أكتوبر ١٩٧٣م. (محمد نجيب - جمال عبدالناصر - السادات - مبارك)

### دلي:

- ١) لم تكن قرارات الأمم المتحدة عام ١٩٤٧م في مصلحة القضية الفلسطينية ؟

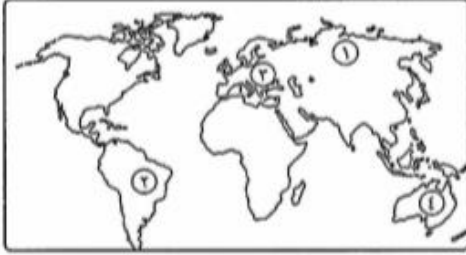
### أكتب ما تشير إليه الجمل الآتية:

- ١) نوع من أنواع الرعي يمارسه سكان المناطق الصحراوية في مساحات واسعة في قارات العالم.
- ٢) أذاع أول بيان لثورة ٢٣ يوليو ١٩٥٢م.
- ٣) قاد اللجنة العربية في ثورة عام ١٩٣٦م.

### ما النتائج المترتبة على:

- ١) إصدار قوانين الإصلاح الزراعي ؟
- ٢) إنشاء السد العالي ؟

## اختبار



### اكتب ما تشير إليه الأرقام الآتية:

- ١) أول دول قارة آسيا إنتاجاً للقمح .....
- ٢) ثاني قارات العالم في تربية الأبقار .....
- ٣) أولى قارات العالم إنتاجاً للسكر من البنجر .....
- ٤) ثاني دول العالم في تربية الأغنام .....

### بم تفسر:

- ١) زيادة معدل استهلاك العالم للحوم؟
- ٢) يعتبر النشاط الزراعي من الأنشطة الاقتصادية المهمة في العالم؟
- ٣) فلسطين لها أهمية خاصة في قلوب العرب والمسلمين؟
- ٤) هزيمة الجيوش العربية في حرب فلسطين ١٩٤٨م؟

### ضع علامة (✓) أو (×) مع التصويب:

- ١) القارة الوحيدة التي لا يزرع فيها قصب السكر هي أفريقيا. ( )
- ٢) تنتشر الزراعة الكثيفة على هوامش الغابات الاستوائية. ( )
- ٣) وافقت عصبة الأمم على قرار تقسيم فلسطين عام ١٩٤٧م. ( )
- ٤) أعلن اليهود قيام دولة إسرائيل في ١٤ مايو ١٩٤٨م. ( )
- ٥) حاصر الإنجليز قصر عابدين في سبتمبر ١٩٥٢م. ( )

### اختر الإجابة الصحيحة مما بين الأقواس:

- ١) سيطر ..... على جميع قطاعات الجيش المصري بعد إذاعة البيان الأول لثورة ٢٣ يوليو ١٩٥٢م.  
(جمال عبد الناصر - أنور السادات - محمد نجيب - حسنى مبارك)
- ٢) من الإنجازات الاجتماعية لثورة ٢٣ يوليو ١٩٥٢م. (إعلان الجمهورية - مجانية التعليم - تأميم قناة السويس - حل الأحزاب السياسية)
- ٣) أولى دول العالم في إنتاج قصب السكر. (فرنسا - الهند - البرازيل - مصر)
- ٤) تعد الصين أولى دول العالم المنتجة للحوم الحمراء ومعظمها لحوم. (أغنام - أبقار - خنازير - إبل)

### قارن بين: ١) الزراعة البسيطة والزراعة الكثيفة من حيث: (أماكن انتشارها - خصائصها - أهم محاصيلها).

٢) الأغنام والأبقار من حيث: (الأهمية - الدول المربية).

### اكتب ما تشير إليه الجمل الآتية:

- ١) زراعة تتم في حقول واسعة وتهدف للإنتاج التجارى الضخم.
- ٢) يستخرج من عصارة أشجار استوائية ويدخل في صناعة إطارات السيارات.
- ٣) أبشع المذابح التي ارتكبتها العصابات اليهودية في فلسطين.
- ٤) أذاع البيان الأول لثورة ٢٣ يوليو بصوته.

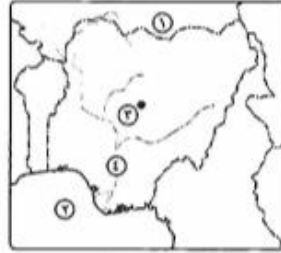
### اجب عما يأتي:

«تعتبر الزراعة أقدم الحرف التي عرفها الإنسان وكانت سبباً في استقراره على ضفاف الأنهار»، في ضوء العبارة أجب عن الآتى:

١) أهم خصائص الزراعة التجارية والعلمية؟

٢) ما أهم محصول تشتهر به مصر عالمياً؟

## اختبار



### أكتب ما تشير إليه الأرقام الآتية:

- ١) دولة .....
- ٢) خليج .....
- ٣) مدينة .....
- ٤) نهر .....

### أختر الإجابة الصحيحة:

- ١) قاد ..... خطة الخداع لصف أنظار إسرائيل عن التجهيزات الهجومية في حرب أكتوبر ١٩٧٣ م.  
(سعد الدين الشاذلي - عبد المنعم رياض - أحمد إسماعيل - عبد الغنى الجمسى)
  - ٢) أكدت الأحداث أن ..... قوة مساندة للشعب في ثورة ٢٥ يناير ٢٠١١ م.  
(الشرطة - الشعب - القضاء - الجيش)
  - ٣) تحققت أول تجربة للوحدة العربية بين مصر و..... عام ١٩٥٨ م.  
(إسرائيل - سوريا - الأردن - العراق)
  - ٤) استمرت ثورة ٢٥ يناير ٢٠١١ م ..... يوماً.  
(١١ - ١٥ - ١٧ - ١٨)
- قارن بين: الحديد والبترو من حيث: (الأهمية - أولى الدول المنتجة)

### أكتب ما تشير إليه الجمل الآتية:

- ١) معاهدة جعلت مصر ميدان للحرب العالمية الثانية واستنزاف موارد مصر.
- ٢) الخام الرئيسى للألمونيوم.
- ٣) قانون أصدرته ثورة ٢٣ يوليو ويمقتضاه تم تحديد الملكية الزراعية في سبتمبر ١٩٥٢ م.
- ٤) مؤتمر دعا إليه كل من الولايات المتحدة الأمريكية والاتحاد السوفيتي مؤكداً على مبدأ الأرض مقابل السلام.

### ما النتائج المترتبة على:

- ١) ثورة ٢٥ يناير ؟
- ٢) ثورة ٣٠ يونيو ؟
- ٣) انتشار التعليم بين قبائل وسط آسيا ؟
- ٤) الوحدة الاقتصادية الأوروبية ؟

### بحم تفسير:

- ١) العدوان الثلاثى على مصر ١٩٥٦ م ؟
- ٢) اندلاع حرب أكتوبر ١٩٧٣ م ؟

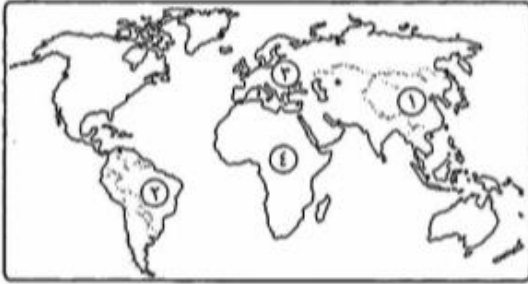
### دلل على صحة العبارات الآتية:

- ١) للسلام مزايا متعددة على وطننا العربى ؟

### ضع علامة (✓) أو (×) مع التصويب:

- ١) تعد دولة بنجلاديش أولى دول العالم في إنتاج المطاط. ( )
- ٢) تساهم الأغنام بنسبة كبيرة في التجارة الدولية للثروة الحيوانية. ( )
- ٣) الموطن الأصلى للشاى هو شرق أفريقيا. ( )
- ٤) من الاحياء البحرية الرخويات مثل الجمبرى. ( )
- ٥) أعطى مؤتمر جنيف في أبريل ١٩٢٠ م لبريطانيا حق الانتداب على فلسطين. ( )
- ٦) قامت مصر بإغلاق خليج السويس أمام الملاحة الإسرائيلية عام ١٩٦٧ م. ( )

## اختبار



### اكتب ما تشير إليه الأرقام الآتية:

- (١) أول دول العالم إنتاجاً للشاي .....
- (٢) أول دول العالم إنتاجاً لقصب السكر .....
- (٣) أول قارات العالم في إنتاج البنجر .....
- (٤) ثاني قارات العالم في إنتاج المطاط .....

### ضع علامة (✓) أو (×) مع التصويب:

- ( ) ١) تنتشر الزراعة البدائية في المناطق الباردة على هوامش الغابات الصنوبرية.
- ( ) ٢) تسهم دول الكاريبي بنحو ٤٧% مما يدخل في التجارة الدولية للبتروول والغاز الطبيعي.
- ( ) ٣) تعد دولة الهند أكبر الدول إنتاجاً للقمح.
- ( ) ٤) عقد مؤتمر بانندونج بمندريد عام ١٩٥٥ م.
- ( ) ٥) يعرف خط الدفاع الإسرائيلي في هضبة الجولان السورية بخط بارليف.

### بم تفسر:

- (١) يعتبر النشاط الزراعي من الأنشطة الأساسية في العالم؟
- (٢) عدم جودة زراعة قصب السكر في قارة أوروبا؟
- (٣) احتلال الصين المركز الأول في صيد الأسماك؟
- (٤) إصدار قرار بناء السد العالي؟
- (٥) العدوان الثلاثي على مصر ١٩٥٦ م؟

### حدد الدول الأولى عالمياً في إنتاج كل من:

- (١) الذرة. (٢) الألفظن. (٣) المطاط. (٤) الطاقة النووية.

### اختر الإجابة الصحيحة مما بين الأقواس:

- (١) أهم العوامل البشرية التي تساعد على حرفة الصيد.  
(ضحالة مياه الساحل - التقاء التيارات البحرية - الأرصفة القارية - توافر الحفريات الفنية)
- (٢) أكثر أنواع القمح انتشاراً في العالم .....  
(الإثراسيت - اللجنيت - البيتوميني - الكوك)
- (٣) تقع أهم مراكز الصناعة الحديثة في جنوب شرق آسيا بدولة .....  
(فنزويلا - شيل - ماليزيا - المكسيك)
- (٤) صدر قرار مجلس الأمن رقم ٢٤٢ بعد .....  
(حرب فلسطين - العدوان الثلاثي - عدوان ١٩٦٧ م - حرب أكتوبر ١٩٧٣ م)
- (٥) اعتمد عليه جمال عبد الناصر في بناء القوات المسلحة واستشهد في حرب الاستنزاف .....  
(سعد الدين الشللي - محمد فوزي - محمد عبد الغنى الجمسى - عبد المنعم رياض)

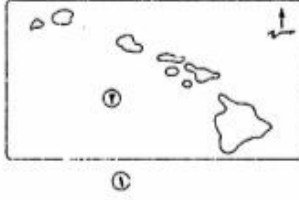
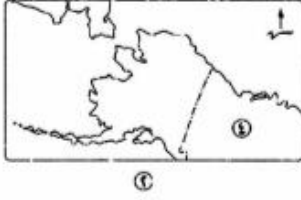
### دليل:

- (١) لتورة ٢٣ يوليو ١٩٥٢ م إنجازات في المجال العربي والدولي؟

### لمن تنسب الأعمال الآتية:

- (١) تولي القيادة العامة الموحدة للقوات المصرية السورية في حرب أكتوبر ١٩٧٣ م؟
- (٢) دعا لعقد مؤتمر كامب ديفيد في سبتمبر ١٩٧٨ م؟
- (٣) مفتى القدس الذي رأس اللجنة العربية التي قامت بثورة ١٩٣٦ م في فلسطين؟

## اختبار



اكتب ما تشير إليه الأرقام الآتية:

- (١) ولاية.....
- (٢) ولاية.....
- (٣) المحيط.....
- (٤) دولة.....

**بم تفسر:**

- (١) ممارسة الإنسان للأنشطة الاقتصادية البدائية في الماضي ؟
- (٢) تتطلب الزراعة الكثيفة أيدي عاملة وفيرة ؟
- (٣) يعد البترول أهم مصادر الطاقة في العالم ؟
- (٤) تركز صناعة الألمنيوم في الدول المتقدمة ؟

**اختر الإجابة الصحيحة:**

- (١) وقعت اتفاقية الجلاء عن مصر في ..... (يونيو ١٩٥٣م - أكتوبر ١٩٥٤م - نوفمبر ١٩٥٢م - يناير ١٩٥١م)
- (٢) تم عقد مؤتمر كامب ديفيد ١٩٧٨م برعاية ..... (أمريكية - روسية - فرنسية - بريطانية)
- (٣) تعدل ..... أول مأذونة شرعية في مصر. (أمال عثمان - أمل سليمان عفيفي - عائشة راتب - هدى شعراوي)

**لمن تنسب الأعمال الآتية:**

- (١) مفتى القدس الذي قاد اللجنة العربية في ثورة ١٩٣٦م.
- (٢) مؤسس الحركة الصهيونية.

**اكتب ما تشير إليه الجمل الآتية:**

- (١) من المحاصيل المدارية الحارة المنتجة للسكر يزرع في كل قارات العالم عدا أوروبا. (مع أذكر أولى الدول المنتجة له)
- (٢) مادة تستخرج من عصارة الأشجار الاستوائية ويصنع منها إطارات السيارات. (مع أذكر أولى الدول المنتجة له)

**برهن تاريخياً على صحة العبارات الآتية:**

- (١) لم تؤدي معاهدة ١٩٣٦م إلى استقلال حقيقي لمصر ؟
- (٢) لثورة ٢٣ يوليو ١٩٥٢م العديد من الإنجازات في مجال الزراعة ؟
- (٣) هناك أسباب اقتصادية لثورة ٢٥ يناير ٢٠١١م ؟

**حدد أولى القارات إنتاجاً لكل مما يأتي:**

- |            |            |             |             |
|------------|------------|-------------|-------------|
| (١) القمح. | (٢) الذرة. | (٣) النحاس. | (٤) المطاط. |
|------------|------------|-------------|-------------|

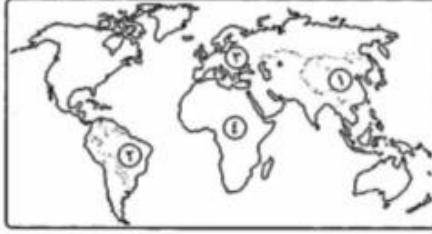
**ضع علامة (✓) أو (×) مع التصويب:**

- ( ) (١) يوجد الرعي البدائي في مناطق الحشائش القصيرة بأمريكا الشمالية.
- ( ) (٢) يوجد الحديد في جميع قارات العالم.
- ( ) (٣) إقليم غرب ووسط أوروبا من أكبر الأقاليم الصناعية بالعالم الجديد.
- ( ) (٤) ترجع جذور الحركة الصهيونية كحركة سياسية إلى بلفور.
- ( ) (٥) تغطي الغابات الاستوائية والمدارية الجزء الشمالي لنيجيريا.

**قارن بين:**

- (١) نيجيريا والمهند من حيث: (القارة - مناطق تركيز السكان - ما تصدره مصر لها)

## اختبار



أكتب ما تشير إليه الأرقام الآتية:

- ١) أولى دول العالم إنتاجاً للشاي .....
- ٢) أولى دول العالم إنتاجاً لقصب السكر .....
- ٣) أولى قارات العالم في إنتاج البنجر .....
- ٤) ثاني قارات العالم في إنتاج المطاط .....

بم تفسر:

- ١) يقل الاعتماد على الأيدي العاملة في الزراعة التجارية ؟
- ٢) إصدار قانون الإصلاح الزراعي الأول عام ١٩٥٢ م ؟
- ٣) لم تؤدي معاهدة ١٩٣٦ م إلى استقلال حقيقي لمصر ؟
- ٤) زراعة قصب السكر في كل القارات ماعدا أوروبا ؟
- ٥) قلة العاملين بالرعي في شبه الجزيرة العربية وبادية الشام ؟

أكمل:

- ١) الياق والكسافا والذرة و..... من محاصيل الزراعة .....
- ٢) الزراعة ..... تعتمد على أيدي عاملة وفيرة.
- ٣) يتخصص الرعي ..... في تربية حيوان واحد لإنتاج اللحوم والألبان.
- ٤) أولى دول العالم إنتاجاً للأسماك واللحوم هي ..... ومعظمها لحوم .....
- ٥) من أسباب قيام ثورة ٢٣ يوليو هزيمة الجيش المصري والعربي في حرب ..... ١٩٤٨ م.
- ٦) من إنجازات ثورة ٢٣ يوليو في مجال الزراعة إنشاء .....
- ٧) من إنجازات ثورة ٢٣ يوليو في المجال العربي قيام أول تجرية وحدة عربية بين ..... و..... عام ١٩٥٨ م.

أجب عما يأتي:

- «نجمت ثورة ٢٣ يوليو ١٩٥٢ م بتأييد الشعب المصري»، في ضوء هذه العبارة وضح ما يأتي:
- ١) ثلاثة من عوامل قيام ثورة ٢٣ يوليو ١٩٥٢ م ؟
  - ٢) ثلاثة من أهداف ثورة ٢٣ يوليو ١٩٥٢ م ؟

دليل:

- ١) فساد النظام الملكي قبل ثورة ٢٣ يوليو ١٩٥٢ م ؟
- ٢) لم تحقق معاهدة ١٩٣٦ م الاستقلال الحقيقي لمصر ؟

ما العلاقة بين:

- ١) حرب فلسطين وثورة ١٩٥٢ م ؟
- ٢) التقدم العلمي والرعي التجاري ؟

قارن بين

- ١) الزراعة البدائية والزراعة الكثيفة من حيث: (أماكن الانتشار والمحاصيل).

ما المقصود بالمصطلحات الآتية:

- ١) الزراعة الكثيفة.
- ٢) عدم الانحياز.